

Кетенишев С. А.

39

**Школьный этап Всероссийской олимпиады школьников по географии
в 2020 - 2021 учебном году
8 класс**

**Время выполнения заданий- 120 минут
Максимальное количество баллов- 55 баллов**

ТЕСТОВЫЙ ТУР

1. Определите географический объект по его координатам:

94° 15' в.д. и 66 °25' с.ш. *Озеро Виви*

2

2. Назовите пролив, отделяющий Северный остров Новой Земли от Южного, соединяющий Баренцево море с Карским морем

Пролив Маточкин Шар

Пролив Карские Вороты

2

3. Определите, когда по местному времени совершит посадку в Екатеринбурге (4-й часовой пояс) самолет, вылетевший из Москвы (2-й часовой пояс) в 11 часов по московскому времени и находившийся в полете 2 часа:

- А. 9 часов
- Б. 13 часов
- В. 15 часов
- Г. 17 часов

1

4. В состав, какого федерального округа входит Республика Бурятия и Забайкальский край:

- А. Уральского
- Б. Сибирского
- В. Дальневосточного
- Г. Приволжского

0

5. Первый русский путешественник, достигший северо-западных берегов Тихого океана

- А. Афанасий Никитин
- Б. Иван Москвитин
- В. Ермак Тимофеевич
- Г. Семен Дежнев

6. Какое из утверждений о тектоническом строении России является верным?:

- А. в основании Западно-Сибирской равнины лежит молодая полеозойская платформа
- Б. в основании Средне-Сибирского плоскогорья лежит область полеозойской складчатости
- В. Кавказские горы образовались в эпоху мезозойской складчатости
- Г. в настоящее время на территории России продолжается герцинское горообразование

7. Расположите низменные равнины России с запада на восток:

- А. Яно-Индигирская
- Б. Северо-Сибирская
- В. Колымская
- Г. Большеземельская тундра

8. В акватории какого моря находятся Медвежьи острова?

- А. Чукотского
- Б. Лаптевых
- В. Восточно-Сибирского
- Г. Охотского

9. Ступенчатый рельеф – траппы Средней Сибири объясняется:

- А. действием многолетней мерзлоты
- Б. наличием большого числа горстов и грабенов
- В. движением земной коры
- Г. чередованием твердых магматических пород и мягких осадочных

10. Установите единственно правильное соответствие «территория - основная экологическая проблема»:

- А. Европейский Север – оттаивание многолетней мерзлоты при нефтедобыче
- Б. Калмыкия – загрязнение грунтовых вод
- В. острова Новая Земля – радиоактивное загрязнение
- Г. Краснодарский край – кислотные дожди

11. Для какого района России не характерна многолетняя мерзлота:

- А. Корякское нагорье
- Б. Сихотэ-Алинь
- В. Чукотский полуостров
- Г. полуостров Таймыр

12. Выберите ошибочное положение характеристики зоны пустынь на территории России:

- А. расположена в бассейне Каспийского моря
- Б. расположена в умеренном климатическом поясе
- В. преобладающий тип почв серо-бурые
- Г. много форм рельефа созданных ветром

13. Выделите общую черту природы Восточно-Европейской равнины и Средне-Сибирского плоскогорья:

- А. наибольшая их площадь относится к бассейну Северного Ледовитого океана
- Б. на них произрастают хвойные и широколиственные леса
- В. для них характерны бурые лесные и коричневые почвы
- Г. в их пределах есть участки, расположенные на щитах

Т, Ф, А, В

1

1

1

1

14. Выберите правильное утверждение:

А. Россия расположена в 9 часовых поясах

Б. береговая линия России (с учетом островов) – самая длинная среди государств мира

В. в России протекают реки, принадлежащие бассейнам трех океанов и бассейну внутреннего стока

Г. на территории есть горные массивы всех эпох складчатости

15. Расположите реки России в порядке возрастания их длины:

д, в, г, а

А. Терек

Б. Лена

В. Печора

Г. Урал

16. Установите соответствие между городом и типом климата:

1. Иркутск

А. Область континентального климата

2. Омск

Б. Область арктических пустынь и тундр

3. Диксон

В. Область резко-континентального климата

4. Благовещенск

Г. Область муссонного климата

д-2, в-3, в-1, г-4

17. Правильны ли утверждения о горах Южной Сибири? (да/нет)

А. Это система низких и средневысотных хребтов вытянутых в меридиональном направлении *да*

Б. Климат Южной Сибири изменяется от континентального до резко континентального *нет*

В. Максимум осадков выпадает на наветренных склона Алтая, Кузнецкого Алатау и Западного Саяна *нет*

Г. Характерной особенностью гор Южной Сибири – наличие большого количества межгорных котловин *да*

18. Реки Обь, Енисей, Лена текут в основном в направлении с юга на север. Это объясняется:

А. тектоническим строением

Б. общим наклоном территории к северу

В. чередованием гор и равнин в рельефе

Г. особенностями слагающих пород

19. Выберите ряд, в котором горные системы располагаются в порядке убывания своего возраста:

- А. Кордильеры – горы Южной Сибири – горы Больших Зондских островов
- Б. Большой Водораздельный хребет – Гималаи - Урал
- В. Анды – Кунь-Лунь – Скандинавские горы
- Г. Пиренеи – Тянь-Шань - Памир

20. Наиболее крупным по площади и самым маленьким по численности населения европейской части России является:

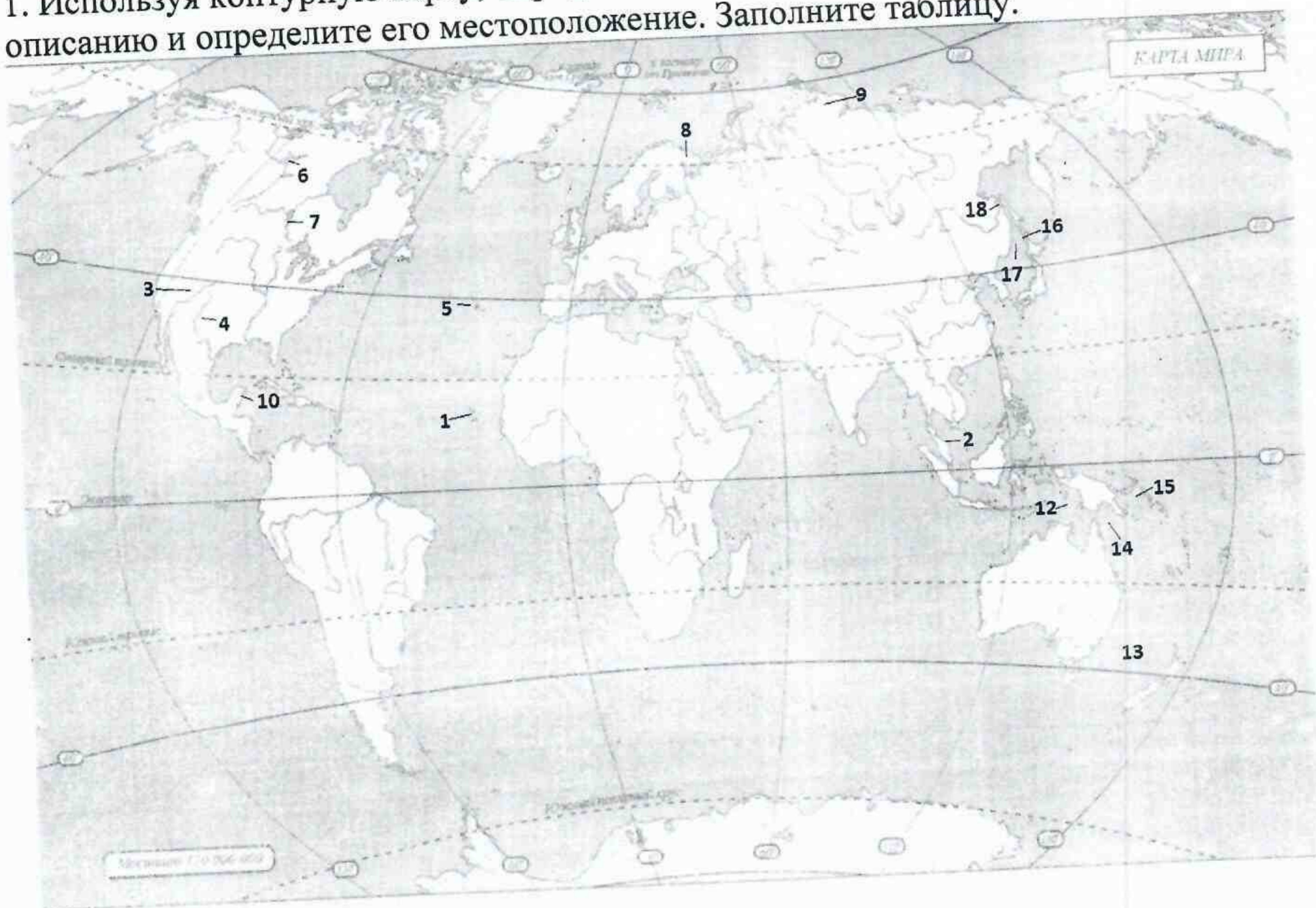
- А. Поволжье
- Б. Европейский Юг
- В. Центральная Россия
- Г. Европейский Север

15

АНАЛИТИЧЕСКИЙ ТУР

8 КЛАСС

1. Используя контурную карту, определите географический объект по его описанию и определите его местоположение. Заполните таблицу.




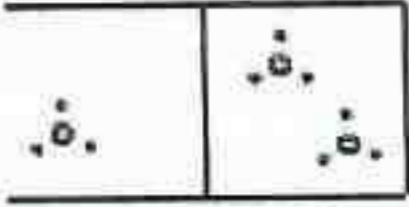



Заполните таблицу

Объект	Номер на карте	Описание
Полуостров Малакка	2	Южная оконечность полуострова Индокитай, омываемая на западе Андаманским морем, на востоке Южно-Китайским морем, а на юге одноименным проливом
Башня Невелинские Озеро	6	Пятое по площади пресноводное озеро Канады, и 12 по площади пресноводное озеро мира

Каммоново море	15	Межостровное море расположенная между одноименными островами, Новой Британие и Новой Гвинеей
Острова Зеленого Мыса	1	Архипелаг из десяти крупных и 8 мелких островов, расположенный в центральной части Атлантического океана
Патокский пролив	14	Пролив между материком Евразия и о. Сахалин
Колорадо	3	Крупная река, берущая начало, в Скалистых горах образуя обширную дельту
Байкал	9	Самая северная горная система в России

2. Условные знаки плана и карты. Подпишите условные знаки. Заполните таблицу.

№	Условный знак	Обозначение
1.		Овраг
2.		Балочка
3.		
4.		Мешаный лес
5.		Хвойный лес
6.		Мешаный лес
7.		Станция, железная дорога
8.		Школа
9.		Мост металлический
10.		Посылок

11.		Родник
12.		Кусты
13.		Церковь
14.		Фруктовый сад
15.		Река, Карповская речка

14