

Школьный этап Всероссийской олимпиады школьников по географии
в 2020 - 2021 учебном году
8 класс

Время выполнения заданий- 120 минут
Максимальное количество баллов- 55 баллов

ТЕСТОВЫЙ ТУР

1. Определите географический объект по его координатам:
94° 15' в.д. и 66 °25' с.ш. *Озеро Байкал.*

2

2. Назовите пролив, отделяющий Северный остров Новой Земли от Южного, соединяющий Баренцево море с Карским морем *пролив Матожкины шари.*

2

3. Определите, когда по местному времени совершит посадку в Екатеринбурге (4-й часовой пояс) самолет, вылетевший из Москвы (2-й часовой пояс) в 11 часов по московскому времени и находившийся в полете 2 часа:

- А. 9 часов
- Б. 13 часов
- В. 15 часов
- Г. 17 часов

1

4. В состав, какого федерального округа входит Республика Бурятия и Забайкальский край:

- А. Уральского
- Б. Сибирского
- В. Дальневосточного
- Г. Приволжского

0

5. Первый русский путешественник, достигший северо-западных берегов Тихого океана

- А. Афанасий Никитин
- Б. Иван Москвитин
- В. Ермак Тимофеевич
- Г. Семен Дежнев

0

6. Какое из утверждений о тектоническом строении России является верным?:

- А. в основании Западно-Сибирской равнины лежит молодая полеозойская платформа
- Б. в основании Средне-Сибирского плоскогорья лежит область полеозойской складчатости
- В. Кавказские горы образовались в эпоху мезозойской складчатости
- Г. в настоящее время на территории России продолжается герцинское горообразование

1

0

7. Расположите низменные равнины России с запада на восток:
- А. Яно-Индигирская 3
 - Б. Северо-Сибирская 2
 - В. Колымская 4
 - Г. Большеземельская тундра 1
8. В акватории какого моря находятся Медвежий острова?
- А. Чукотского
 - Б. Лаптевых
 - В. Восточно-Сибирского
 - Г. Охотского
9. Ступенчатый рельеф – траппы Средней Сибири объясняется:
- А. действием многолетней мерзлоты
 - Б. наличием большого числа горстов и грабенов
 - В. движением земной коры
 - Г. чередованием твердых магматических пород и мягких осадочных
10. Установите единственно правильное соответствие «территория - основная экологическая проблема»:
- А. Европейский Север – оттаивание многолетней мерзлоты при нефтедобыче
 - Б. Калмыкия – загрязнение грунтовых вод
 - В. острова Новая Земля – радиоактивное загрязнение
 - Г. Краснодарский край – кислотные дожди
11. Для какого района России не характерна многолетняя мерзлота:
- А. Корякское нагорье
 - Б. Сихотэ-Алинь
 - В. Чукотский полуостров
 - Г. полуостров Таймыр
12. Выберите ошибочное положение характеристики зоны пустынь на территории России:
- А. расположена в бассейне Каспийского моря
 - Б. расположена в умеренном климатическом поясе
 - В. преобладающий тип почв серо-бурые
 - Г. много форм рельефа созданных ветром
13. Выделите общую черту природы Восточно-Европейской равнины и Средне-Сибирского плоскогорья:
- А. наибольшая их площадь относится к бассейну Северного Ледовитого океана
 - Б. на них произрастают хвойные и широколиственные леса
 - В. для них характерны бурые лесные и коричневые почвы
 - Г. в их пределах есть участки, расположенные на щитах

14. . Выберите правильное утверждение:

- А. Россия расположена в 9 часовых поясах
- Б. береговая линия России (с учетом островов) – самая длинная среди государств мира
- В. в России протекают реки, принадлежащие бассейнам трех океанов и бассейну внутреннего стока
- Г. на территории есть горные массивы всех эпох складчатости

15. Расположите реки России в порядке возрастания их длины:

- А. Терек ¹
- Б. Лена ⁴
- В. Печора ³
- Г. Урал ²

16. Установите соответствие между городом и типом климата:

- | | |
|-----------------|---|
| 1. Иркутск | А. Область континентального климата |
| 2. Омск | Б. Область арктических пустынь и тундр |
| 3. Диксон | В. Область резко-континентального климата |
| 4. Благовещенск | Г. Область муссонного климата |

17. Правильны ли утверждения о горах Южной Сибири? (да/нет)

- А. Это система низких и средневысотных хребтов вытянутых в меридиональном направлении *Да*
- Б. Климат Южной Сибири изменяется от континентального до резко континентального *Да*
- В. Максимум осадков выпадает на наветренных склона Алтая, Кузнецкого Алатау и Западного Саяна *Да*
- Г. Характерной особенностью гор Южной Сибири – наличие большого количества межгорных котловин *Нет*

18. Реки Обь, Енисей, Лена текут в основном в направлении с юга на север. Это объясняется:

- А. тектоническим строением
- Б. общим наклоном территории к северу
- В. чередованием гор и равнин в рельефе
- Г. особенностями слагающих пород

19. Выберите ряд, в котором горные системы располагаются в порядке убывания своего возраста:

- А. Кордильеры – горы Южной Сибири – горы Больших Зондских островов
- Б. Большой Водораздельный хребет – Гималаи - Урал
- В. Анды – Кунь-Лунь – Скандинавские горы
- Г. Пиренеи – Тянь-Шань - Памир

1

20. Наиболее крупным по площади и самым маленьким по численности населения европейской части России является:

- А. Поволжье
- Б. Европейский Юг
- В. Центральная Россия
- Г. Европейский Север

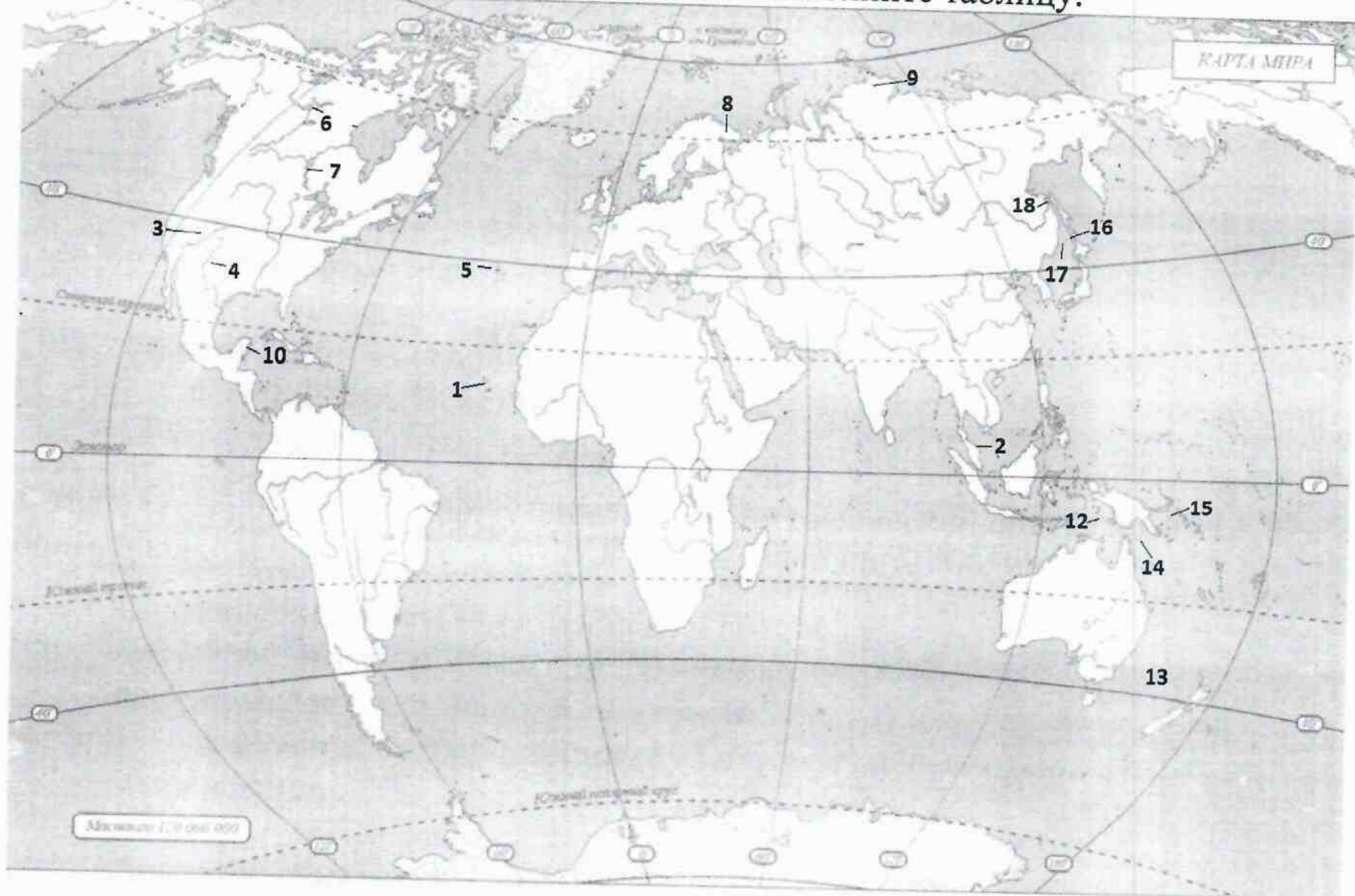
0

14

АНАЛИТИЧЕСКИЙ ТУР

8 КЛАСС

1. Используя контурную карту, определите географический объект по его описанию и определите его местоположение. Заполните таблицу.














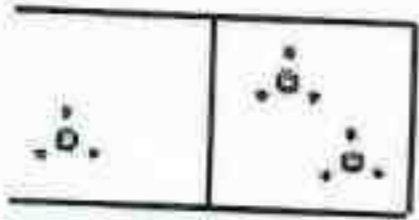



Заполните таблицу

Объект	Номер на карте	Описание
П-ов Малакка	2	Южная оконечность полуострова Индокитай, омываемая на западе Андаманским морем, на востоке Южно-Китайским морем, а на юге одноименным проливом
Виннипег	4	Пятое по площади пресноводное озеро Канады, и 12 по площади пресноводное озеро мира

		Межостровное море расположенная между одноименными островами, Новой Британие и Новой Гвинеей
Острова Зеленого мыса	18	Архипелаг из десяти крупных и 8 мелких островов, расположенный в центральной части Атлантического океана
		Пролив между материком Евразия и о. Сахалин
Колорадо		Крупная река, берущая начало, в Скалистых горах образуя обширную дельту
Горы Байрания	9	Самая северная горная система в России

2. Условные знаки плана и карты. Подпишите условные знаки. Заполните таблицу. 9

№	Условный знак	Обозначение
1.		Овраг
2.		Бухта
3.		Овраг
4.		Бережник.
5.		Хвойный лес.
6.		Смешанные леса.
7.		Станция
8.		Школа.
9.		Забор
10.		Жилые дома.

11.		Ключик
12.		Ключик в дырке
13.		Крестик
14.		Печатающий стержень
15.		Полупрозрачный стержень

14