

Кушова Найдия

ВСЕРОССИЙСКАЯ ОЛИМПИАДА ШКОЛЬНИКОВ  
ПО ОБЖ 2020–2021 уч. г. ШКОЛЬНЫЙ ЭТАП

9 класс

Тестовые задания

Определите один правильный ответ  
За правильный ответ начисляется 2 балла

- 1 **Ставить вещи на ступени и поручни эскалатора метро**
  - 1) разрешается всегда
  - 2) запрещается, если сумма измерений вещи по длине, ширине и высоте превышает 150 см
  - 3) разрешается, если сумма измерений вещи по длине, ширине и высоте не превышает 140 см
  - 4)  запрещается всегда 2
  
- 2 **Минимальная безопасная толщина льда для совершения пешей переправы группой людей составляет**
  - 1) 7 см
  - 2)  15 см 2
  - 3) 9 см
  - 4) 12 см
  
- 3 **В тихую несолнечную погоду на ровной местности лай собаки слышен за**
  - 1) 1 км 2
  - 2) 4–5 км
  - 3)  2–3 км
  - 4) 1,5 км
  
- 4 **День гражданской обороны в Российской Федерации отмечается**
  - 1) 27 декабря
  - 2)  4 октября 2
  - 3) 30 апреля
  - 4) 1 марта
  
- 5 **Девазация средств индивидуальной защиты – это**
  - 1)  обезвреживание (нейтрализация, разбавление) или удаление опасных химических веществ со средств индивидуальной защиты 2
  - 2) удаление (снижение) радиоактивного загрязнения со средств индивидуальной защиты и их комплектующих изделий
  - 3) удаление (снижение) бактериального загрязнения со средств индивидуальной защиты и их комплектующих изделий
  - 4) удаление членистоногих со средств индивидуальной защиты и их комплектующих изделий

6 Верны ли утверждения?

Противогаз является индивидуальным средством защиты органов дыхания, глаз и лица человека от находящихся в атмосфере в виде паров, газов и аэрозолей, а также от

А. радиоактивных и отравляющих веществ

Б. биологических (бактериальных) средств или иных опасных химических веществ

1) верно только А

2) верно только Б

3) верны оба суждения

4) оба суждения неверны

2

7 Рекомендуемая зона удаления от обнаруженного бесхозного дорожного чемодана составляет

1) 250 м

2) 100 м

3) 85 м

4) 460 м

2

8 Верны ли следующие суждения? По данным ВОЗ, в структуре смертности от неинфекционных заболеваний

А. наибольшая доля приходится на сердечно-сосудистые заболевания

Б. на втором месте находятся хронические респираторные заболевания

1) верно только А

2) верно только Б

3) верны оба суждения

4) оба суждения неверны

2

9 В первую очередь при оказании первой помощи подробно осматривается(-ются)

1) конечности

2) голова

3) грудная клетка

4) живот и таз

5) шея

2

10 С какой частотой выполняются давления руками на грудину пострадавшего при проведении сердечно-лёгочной реанимации?

1) 60–70 в минуту

2) 70–80 в минуту

3) 80–95 в минуту

4) 100–120 в минуту

2

**Определите два правильных ответа**

За каждый правильный ответ начисляется **2 балла**

- 1 **Какой сигнальный цвет и какую геометрическую форму имеют запрещающие знаки безопасности?**  
① красный  
2) треугольник 2  
3) квадрат  
4) жёлтый  
5) круг с поперечной полосой
- 2 **Водные огнетушители предназначены для тушения очагов пожаров класса**  
① А 2  
2) В  
3) С  
4) D  
5) E
- 3 **Какие растения являются ядовитыми?**  
① волчегодник 2  
2) белокопытник широкий  
3) анис  
4) бенинказа щетинисто-волосистая  
5) ясенец
- 4 **К АХОВ с преимущественно удушающим и выраженным прижигающим действием относятся**  
1) фосген  
2) хлорпекрин  
③ хлор 2 + 2  
④ трёххлористый фосфор  
5) синильная кислота
- 5 **Что из перечисленного относится к биолого-социальным ЧС?**  
① пандемия 2 + 2  
2) лесной пожар  
3) выветривание пород  
④ энзоотия  
5) биологическая авария
- 6 **К медицинским средствам индивидуальной защиты относятся**  
1) щиток защитный лицевой медицинский  
② средства защиты из антимикробных материалов  
3) камера изолирующая детская  
4) пневмокостюм 2 + 2  
⑤ защитные дерматологические средства

- 7 Какие материалы в соответствии с законодательством Российской Федерации признаны экстремистскими?
- 1) музыкальный альбом «Чёрный пёс Петербург»
  - 2) музыкальный альбом «Музыка белых»
  - 3) брошюра «Святославие»
  - 4) книжная серия «На путях веры»
  - 5) музыкальный альбом «Посолонь»
- 8 Какие витамины относятся к жирорастворимым?
- 1) В<sub>6</sub>
  - 2) С
  - 3) К
  - 4) D
  - 5) В<sub>2</sub>
- 9 Какие признаки характерны для гипотермии средней степени (температура тела 34–30°C)?
- 1) мышечное окоченение
  - 2) озноб, мышечная дрожь
  - 3) замедление сердечного ритма
  - 4) учащение сердечного ритма
  - 5) возбуждение, беспокойство
- 10 Какие суставы необходимо иммобилизовать при переломе костей голени?
- 1) тазобедренный
  - 2) коленный
  - 3) голеностопный
  - 4) плюснефаланговый
  - 5) межфаланговые

2 + 2

2 + 2

2 + 2

2 + 2


Максимум за тестовые задания – 60 баллов.

54.

### Теоретические задания

#### Задание 1






Установите соответствие между изображением дорожного знака и его наименованием.



«Разрешение на движение транспортного средства»
«Опасная обочина»
«Вид транспортного средства»
«Искусственная неровность»
«Опасные повороты»
«Движение на велосипедах запрещено»
«Опасный поворот»
«Стоянка велосипедов запрещена»
«Дорога с полосой для велосипедов»
«Выезд на дорогу с полосой для велосипедистов»

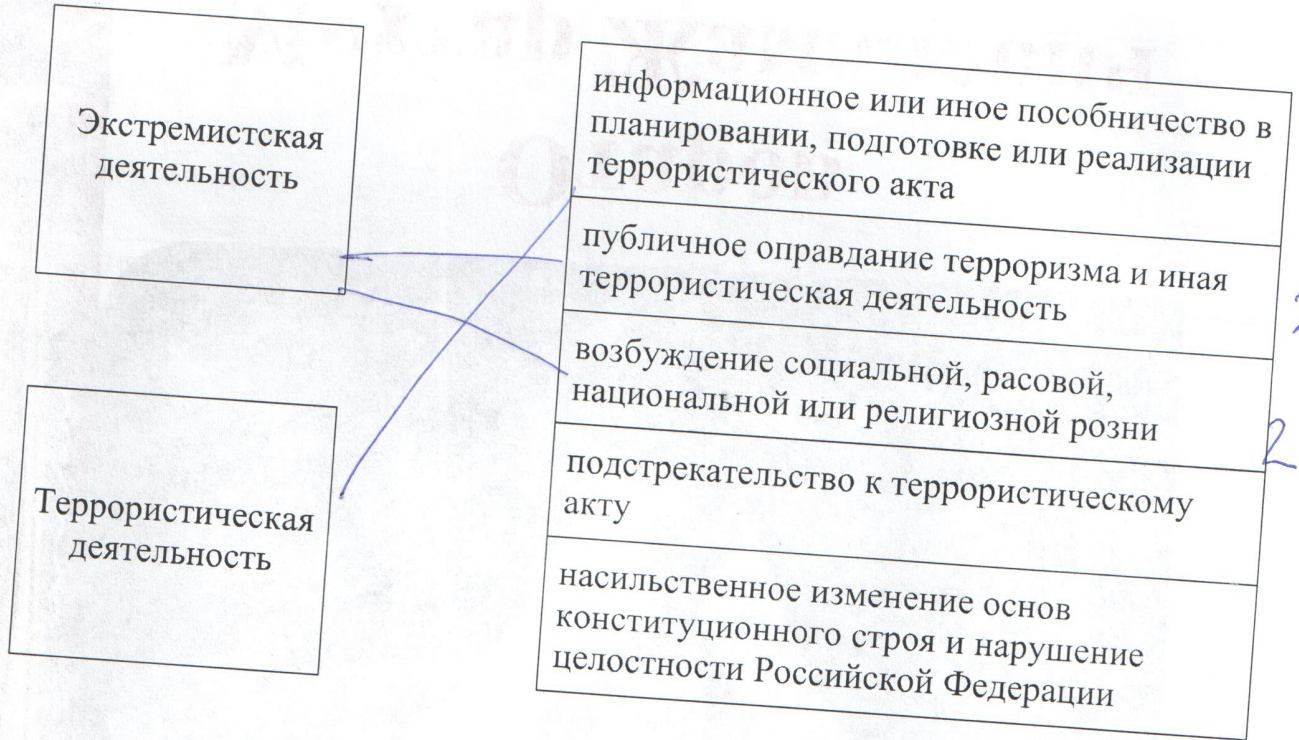
### Задание 2

Каждый визуальный сигнал «поверхность – воздух», применяемый при поисково-спасательных операциях, имеет определённое значение. Установите соответствие между изображением сигнала и его значением.

	«Необходима медицинская помощь»	2
	«Здесь можно безопасно совершить посадку»	2
	«Необходимы техническая помощь или запчасти»	2
	«Требуются карта и компас»	2
	«Вскоре смогу продолжить движение, подождите, если возможно»	2
	«Укажите направление следования»	2
	«Всё в порядке, не ждите»	2
	«Нет, или отрицательно»	2
	«Производите посадку здесь»	2
	«Попытаемся взлететь»	2

### Задание 3

Определите, какая деятельность является экстремистской, а какая относится к террористической.



### Задание 4

А. Установите соответствие между видом травмы и (или) состоянием пострадавшего и видом используемой повязки.

Вид травмы и (или) состояние пострадавшего	Вид повязки
Ранение голени, венозное кровотечение	Теплоизолирующая повязка
Перелом нижней челюсти	Герметизирующая (окклюзионная) повязка
Ранение грудной клетки	Давящая повязка
Отморожение стопы	Пращевидная повязка

2

2

Б. Какая повязка изображена на рисунке?



- ✓ косыночная
- циркулярная
- спиральная
- пращевидная

848.

Максимальная оценка за работу – 100 баллов.