


ВСЕРОССИЙСКАЯ ОЛИМПИАДА ШКОЛЬНИКОВ
ПО ОБЖ 2020–2021 уч. г. ШКОЛЬНЫЙ ЭТАП
10–11 классы

*Каримова
Дарина И.А.*

Тестовые задания

Определите один правильный ответ
За правильный ответ начисляется 2 балла

- 1 Если при падении на рельсы метро Вы получили травму и видите приближающийся электропоезд, лягте
- 1) лицом вверх в лоток между рельсами головой к поезду
 - 2) лицом вниз в лоток между рельсами ногами к поезду
 - 3) лицом вверх в лоток между рельсами ногами к поезду
 - ④ лицом вниз в лоток между рельсами головой к поезду
- 2 Минимальная безопасная толщина льда для проезда автомобилей должна составлять не менее
- 1) 12 см
 - 2) 15 см
 - ③ 30 см
 - 4) 40 см
- 3 День Сухопутных войск Вооружённых Сил Российской Федерации отмечается
- 1) 27 декабря
 - 2) 4 октября
 - 3) 30 апреля
 - ④ 1 октября
- 4 Рекомендуемая зона удаления от подозрительного микроавтобуса составляет
- 1) 800 м
 - 2) 460 м
 - ③ 920 м
 - 4) 1240 м
- 5 На изображении представлена
- 1) БМОП «Терминатор»
 - ② БМП Т-15
 - 3) БМР-3М
 - 4) БРЭМ-1М
- 
- 6 День Неизвестного Солдата отмечается
- ① 3 декабря
 - 2) 24 декабря
 - 3) 5 декабря
 - 4) 9 декабря

7 Какой из противогазов полностью интегрирован в комплект боевой экипировки «Ратник-2»?

- 1) ГП-7ВД
- 2) ПМК-4
- 3) ГП-5
- 4) ИП-4

2

8 На изображении представлена средняя эмблема

- 1) ВС РФ
- 2) ВКС РФ
- 3) ВДВ РФ
- 4) РВСН РФ

2



9 Недостаточность какого витамина приводит к заболеванию рахитом в раннем детском возрасте и остеопорозом в пожилом возрасте?

- 1) А
- 2) С
- 3) К
- 4) D

2

10 Максимальный перерыв в компрессиях грудной клетки для выполнения двух вдохов при проведении сердечно-лёгочной реанимации не должен превышать:

- 1) 2 секунд
- 2) 4 секунд
- 3) 6 секунд
- 4) 10 секунд

2

208.

Определите два правильных ответа

За каждый правильный ответ начисляется 2 балла

- 1 Какой сигнальный цвет и какую геометрическую форму имеют эвакуационные знаки безопасности?
1) красный
2) треугольник
3) квадрат
4) зелёный
5) круг
- 2 Воздушно-пенные огнетушители применяют для тушения пожаров класса
1) А
2) В
3) С
4) D
5) E
- 3 К АХОВ с преимущественно удушающим и слабым прижигающим действием относятся
1) фосген
2) хлорпекрин
3) хлор
4) трёххлористый фосфор
5) синильная кислота
- 4 К боевым отравляющим веществам общеядовитого действия относят
1) хлор
2) дифосген
3) зарин
4) синильную кислоту
5) хлорциан
- 5 Какие некоммерческие организации запрещены в РФ на основании ФЗ «О противодействии экстремистской деятельности»?
1) общественная организация «Наше наследие»
2) военно-патриотический клуб «Дружина Ермака»
3) международное религиозное объединение «Нурджулар»
4) всероссийская общественная организация «Тайфун»
5) межрегиональная общественная организация «Национал-большевистская партия»

6 Калибр и ёмкость магазина АК-74М составляют

- 1) 5,45 мм
- 2) 30 патронов
- 3) 7,62 мм
- 4) 40 патронов
- 5) 5,56 мм

2 + 2 .

7 Какие военные округа существуют в РФ?

- 1) Северный флот
- 2) Балтийский флот
- 3) Западный
- 4) Дальневосточный
- 5) Центральный

2 + 2 .

8 По команде «К БОЮ» сначала необходимо

- 1) взять оружие в правую руку
- 2) сделать полный шаг левой ногой вперёд и немного влево
- 3) сделать полный шаг правой ногой вперёд и немного вправо
- 4) взять оружие обеими руками
- 5) взять оружие в левую руку

2 + 2 .

9 Какие питательные вещества имеют энергетическую ценность 4,1 ккал при окислении 1 грамма вещества?

- 1) белки
- 2) жиры
- 3) углеводы
- 4) витамины
- 5) минеральные вещества

2 + 2 .

10 Общими признаками кровотечения, которые возникают вследствие недостатка кислорода в организме человека, являются:

- 1) слабость, головокружение
- 2) боль
- 3) частый слабый пульс
- 4) кровоизлияние, отёк
- 5) ссадины

2 + 2 .






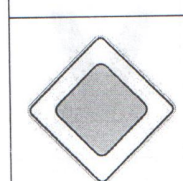


Максимум за тестовые задания – 60 баллов.

605 .

Теоретические задания





Задание 1

Установите соответствие между изображением дорожного знака и его наименованием.

	«Выезд на дорогу с полосой для велосипедистов»	2
	«Зона для разворота»	
	«Дорога с полосой для велосипедов»	
	«Место для разворота»	2
	«Автомагистраль»	2
	«Движение механических транспортных средств запрещено»	2
	«Дорога для автомобилей»	
	«Пересечение с трамвайной дорогой»	
	«Движение запрещено»	
	«Главная дорога»	2

Задание 2

Каждый визуальный сигнал «поверхность – воздух», применяемый при поисково-спасательных операциях, имеет определённое значение. Установите соответствие между изображением сигнала и его значением.

	«Здесь можно безопасно совершить посадку»
	«Операции закончены»
	«Сбросьте сообщение»
	«Неспособны двигаться, требуется медицинская помощь»
	«Не понял»
	«Да, или положительно»
	«Требуется карта и компас»
	«Требуется оружие и боеприпасы»
	«Требуется помощь»
	«Наш приёмник работает»

Handwritten blue arrows connect the signals to their meanings: X to «Здесь можно безопасно совершить посадку»; person with arms raised to «Операции закончены»; two vertical bars to «Сбросьте сообщение»; person with bow to «Требуется карта и компас»; V to «Требуется оружие и боеприпасы».

Handwritten blue numbers on the right side of the table: 2, 2, 2, 2, 2.

Задание 3

В Вооружённых Силах Российской Федерации, других войсках, воинских формированиях и органах устанавливаются воинские звания. Установите соответствие между войсковыми и корабельными воинскими званиями.

Войсковые звания	Корабельные звания
сержант	старшина 2-й статьи
ефрейтор	главный старшина
капитан	контр-адмирал
старший сержант	старший матрос
генерал-майор	старшина 1-й статьи
	главный корабельный старшина
	капитан-лейтенант
	вице-адмирал
	мичман
	адмирал

2
2
2
2
2

Задание 4

А. Во время прогулки в парке к Вам обратился за помощью человек, сидящий на скамье, с просьбой вызвать скорую медицинскую помощь. Он сообщил, что страдает сахарным диабетом и чувствует себя плохо. Внезапно он замолчал и перестал отвечать на вопросы. Расположите мероприятия первой помощи в порядке очередности их выполнения.

Очередность выполнения мероприятий первой помощи	Мероприятия первой помощи
1	6 Контролировать состояние пострадавшего (дыхание и пульс) до приезда скорой медицинской помощи
2	5 Вызвать скорую медицинскую помощь
3	7 Передать пострадавшего бригаде скорой медицинской помощи
4	2 Убедиться в отсутствии сознания (осторожно потрясти за плечи)
5	4 Перевести пострадавшего в устойчивое боковое положение
6	3 Восстановить проходимость дыхательных путей, определить наличие (отсутствие) дыхания и кровообращения (у пострадавшего определяется дыхание и пульс на сонной артерии)
7	1 Оценить обстановку, убедиться в отсутствии опасности для себя и пострадавшего

1005.