



Школьный этап

КОД участника 501

Ф.И.О. Амихбергova Анна
Рукмановна

Класс 5, Б''

Предмет ОБЖ

2021-2022уч.год

**ВСЕРОССИЙСКАЯ ОЛИМПИАДА ШКОЛЬНИКОВ
ПО ОБЖ 2021–2022 уч. г. ШКОЛЬНЫЙ ЭТАП
5–6 классы**

Тестовые задания

Определите один правильный ответ.

За правильный ответ начисляется 4 балла. 0 баллов выставляется за неправильный ответ, а также если участником отмечено более одного ответа (в том числе правильный).

1. **Пешеход**
 а) всегда является участником дорожного движения 2
 б) не является участником дорожного движения
 в) является участником дорожного движения только в возрасте старше 16 лет
 г) не является участником дорожного движения в возрасте до 14 лет

2. **Какой вид костра рекомендуется использовать только для ночёвки?**
 а) «шалаш»
 б) «пирамида» 0
 в) «колодец»
 г) «полинезийский»

3. **В октябре 1960 г. шесть кандидатов на первый полёт в космос приступили к занятиям на тренажёре космического корабля, названного так же, как и одна из сторон света. Как назывался космический корабль?**
 а) «Запад»
 б) «Север» 2
 в) «Восток»
 г) «Юг»






4. **Находясь на эскалаторе, необходимо**
 а) стоять справа лицом по направлению его движения 2
 б) стоять слева лицом по направлению его движения
 в) стоять правым боком по направлению его движения
 г) стоять левым боком по направлению его движения

5. **Какая минимальная толщина льда считается безопасной для одного человека?**
 а) не менее 7 см
 б) не менее 10 см
 в) не менее 5 см 0
 г) не менее 12 см

6. **Об обнаружении бесхозного предмета в вагоне метро в первую очередь необходимо сообщить**
а) машинисту по экстренной связи «пассажир–машинист»
б) в полицию по сотовому телефону
в) дежурному по станции после прибытия на неё состава 0
г) пассажирам вагона голосом
7. **При переходе водоёма по льду рюкзак рекомендуется повесить на**
а) оба плеча
б) одно плечо 0
в) грудь
г) оба плеча и сцепить лямки рюкзака между собой
8. **Ведущий фактор, оказывающий влияние на здоровье человека, по данным Всемирной организации здравоохранения, –**
а) наследственность
б) состояние окружающей среды 0
в) образ жизни
г) уровень медицинского обеспечения
9. **Пострадавший поранил руку. Кровь из раны вытекает равномерно, не пульсирует, тёмно-красного цвета. Какой вид кровотечения можно заподозрить?**
а) артериальное 0
б) венозное
в) капиллярное
г) паренхиматозное
10. **Какое подручное средство рекомендуется использовать для остановки венозного кровотечения?**
а) кровоостанавливающий жгут 0
б) брючный ремень
в) чистую ткань
г) тонкий шнур

Определите два правильных ответа.

За каждый правильный ответ начисляется 4 балла. 0 баллов выставляется за неправильный ответ, а также если участником отмечены более двух ответов (в том числе правильные).

1. **Согласно ПДД РФ, пешеходы должны двигаться по**
- а) обочинам
 - б) тротуарам
 - в) краю проезжей части
 - г) разделительной полосе проезжей части
 - д) велопешеходным дорожкам
2. **Известно, что во время грозы укрываться под деревьями опасно. Какие из них чаще притягивают молнию?**
- а) тополь
 - б) акация
 - в) липа
 - г) бук
 - д) дуб
3. **Выберите знаки, которые в совокупности означают «Медицинская аптечка налево вниз».**
- а) 
 - б) 
 - в) 
 - г) 
 - д) 
4. **Из каких символов состоит малая эмблема МЧС России?**
- а) Белой звезды Надежды
 - б) Восьмилучевой звезды, символа энергии
 - в) международного отличительного знака гражданской обороны
 - г) отличительного знака РСЧС
 - д) Белой звезды — розы ветров

5. **Какие из перечисленных условий в совокупности наиболее благоприятны для купания в водоёме летом в Европейской части России?**
- а) ясная безветренная погода
 - б) переменная облачность
 - в) температура воздуха +25 и более градусов
 - г) температура воздуха не ниже +16 градусов
 - д) ясная, слегка ветреная погода
6. **В качестве подручных средств для тушения небольшого возгорания на кухонной плите можно воспользоваться**
- а) мукой
 - б) содой
 - в) поваренной солью
 - г) какао-порошком
 - д) сахаром
7. **По каким номерам можно сообщить в полицию о противоправных действиях с сотового телефона в Российской Федерации?**
- а) 1-1-2
 - б) 0-2
 - в) 1-0-4
 - г) 9-1-1
 - д) 0-3
8. **Всемирный день без табака отмечается**
- а) 31 мая
 - б) ежегодно
 - в) раз в два года
 - г) 10 октября
 - д) 7 июня
9. **Футболисту мяч угодил в лицо, возникло носовое кровотечение. Какие действия необходимо выполнить для оказания первой помощи?**
- а) уложить пострадавшего на спину
 - б) запрокинуть голову пострадавшего назад
 - в) наклонить голову пострадавшего вперёд
 - г) зажать крылья носа, приложить холод к переносице
 - д) приложить тепло к переносице









10. Какие действия **ЗАПРЕЩЕНЫ** при оказании первой помощи в случае отморожения пальцев рук?

- а) растирание пальцев снегом
- б) перемещение пострадавшего в тёплое помещение
- в) согревание кистей рук в горячей воде
- г) приём тёплой пищи, тёплого питья
- д) наложение теплоизолирующей повязки на повреждённые участки тела

Теоретические задания

Задание 1

Перед поворотом и остановкой велосипедист обязан подавать сигналы. Установите соответствие между изображением сигнала и его значением: «поворот налево», «поворот направо», «торможение».

		
		поворот налево
		поворот направо
		торможение
		

Задание 2

Расположите предложенные фрагменты в верной последовательности, чтобы в итоге получилось определение.

- 1) магмы в процессе подготовки
- 2) или в момент вулканического извержения
- 3) стенок магмопроводящих каналов при движении
- 4) слабое колебание
- 5) земной поверхности, вызываемое дрожанием

Ответ: Магма в процессе подготовки или в момент вулканического извержения земной поверхности, вызываемое дрожанием, слабое колебание стенок магмопроводящих каналов при движении.

Запишите термин, определение, которому Вы составили.

Ответ: _____

Задание 3

В природе существуют опасные ядовитые и безопасные, неядовитые для человека растения.

1. Впишите названия растений, изображённых на фотографиях.
2. Определите, какие растения являются опасными, а какие безопасными для человека (белена, барбарис, снежниковик белый, петрушка, клещевина, иван-чай, сельдерей).

				
Клевер Клеще- вина	Снежниковик барбарис ядовитый	Петрушка	Аттыны Иван-чай	Снежниковик белый

Задание 4

Иммобилизация – это создание неподвижности части тела, конечности. Для выполнения иммобилизации фиксируют суставы.

1. Установите соответствие между количеством иммобилизуемых суставов и локализацией перелома конечности. Укажите стрелками соответствия.

Количество иммобилизуемых суставов	Локализация перелома
Два сустава	Плечо
Три сустава	Предплечье
	Голень
	Бедро

2. При какой травме выполняется иммобилизация, изображённая на рисунке?



- а) перелом костей таза
- б) перелом позвоночника
- в) перелом бедренной кости
- г) перелом костей голени

Ответ: в)

4

Максимальная оценка за работу – 200 баллов.

305.