



Бюджетный код

Код участника 602

Ф.И.О. Нураниев Абдушах
Расимович

Класс 6 "Б"

Предмет ОБЖ

2021-2022 учебный год

ВСЕРОССИЙСКАЯ ОЛИМПИАДА ШКОЛЬНИКОВ
ПО ОБЖ 2021–2022 уч. г. ШКОЛЬНЫЙ ЭТАП
5–6 классы

Тестовые задания

Определите один правильный ответ.

За правильный ответ начисляется 4 балла. 0 баллов выставляется за неправильный ответ, а также если участником отмечено более одного ответа (в том числе правильный).

1. Пешеход

- а) всегда является участником дорожного движения
- б) не является участником дорожного движения
- в) является участником дорожного движения только в возрасте старше 16 лет
- г) не является участником дорожного движения в возрасте до 14 лет

2

2. Какой вид костра рекомендуется использовать только для ночёвки?

- а) «шалаш»
- б) «пирамида»
- в) «колодец»
- г) «полинезийский»

0

3. В октябре 1960 г. шесть кандидатов на первый полёт в космос приступили к занятиям на тренажёре космического корабля, названного так же, как и одна из сторон света. Как назывался космический корабль?

- а) «Запад»
- б) «Север»
- в) «Восток»
- г) «Юг»

2

4. Находясь на эскалаторе, необходимо

- а) стоять справа лицом по направлению его движения
- б) стоять слева лицом по направлению его движения
- в) стоять правым боком по направлению его движения
- г) стоять левым боком по направлению его движения

0

5. Какая минимальная толщина льда считается безопасной для одного человека?

- а) не менее 7 см
- б) не менее 10 см
- в) не менее 5 см
- г) не менее 12 см

0

6. **Об обнаружении бесхозного предмета в вагоне метро в первую очередь необходимо сообщить**
- а) машинисту по экстренной связи «пассажир-машинист»
 - б) в полицию по сотовому телефону
 - в) дежурному по станции после прибытия на неё состава
 - г) пассажирам вагона голосом
7. **При переходе водоёма по льду рюкзаки рекомендуются повесить на**
- а) оба плеча
 - б) одно плечо
 - в) грудь
 - г) оба плеча и сцепить ляжки рюкзака между собой
8. **Ведущий фактор, оказывающий влияние на здоровье человека, по данным Всемирной организации здравоохранения,**
- а) наследственность
 - б) состояние окружающей среды
 - в) образ жизни
 - г) уровень медицинского обеспечения
9. **Пострадавший поранил руку. Кровь из раны вытекает равномерно, не пульсирует, тёмно-красного цвета. Какой вид кровотечения можно заподозрить?**
- а) артериальное
 - б) венозное
 - в) капиллярное
 - г) паренхиматозное
10. **Какое подручное средство рекомендуется использовать для остановки венозного кровотечения?**
- а) кровоостанавливающий жгут
 - б) брючный ремень
 - в) чистую ткань
 - г) тонкий шнур

Определите два правильных ответа.

За каждый правильный ответ начисляется 4 балла. 0 баллов выставляется за неправильный ответ, а также если участником отмечены более двух ответов (в том числе правильные).

1. Согласно ПДД РФ, пешеходы должны двигаться по

- а) обочинам
- б) тротуарам
- в) краю проезжей части
- г) разделительной полосе проезжей части
- д) велопешеходным дорожкам






4

2. Известно, что во время грозы укрываться под деревьями опасно. Какие из них чаще притягивают молнию?

- а) тополь
- б) акация
- в) липа
- г) бук
- д) дуб

4

3. Выберите знаки, которые в совокупности означают «Медицинская аптечка на лево вниз».

- а) 
- б) 
- в) 
- г) 
- д) 

4

4. Из каких символов состоит малая эмблема МЧС России?

- а) Белой звезды Надежды
- б) Восьмилучевой звезды, символа энергии
- в) международного отличительного знака гражданской обороны
- г) отличительного знака РСЧС
- д) Белой звезды – розы ветров

2

5. **Какие из перечисленных условий в совокупности наиболее благоприятны для купания в водоёме летом в Европейской части России?**

- а) ясная безветренная погода
- б) переменная облачность
- в) температура воздуха +25 и более градусов
- г) температура воздуха не ниже +16 градусов
- д) ясная, слегка ветреная погода

2

6. **В качестве подручных средств для тушения небольшого возгорания на кухонной плите можно воспользоваться:**

- а) мукой
- б) содой
- в) поваренной солью
- г) какао-порошком
- д) сахаром

2

7. **По каким номерам можно сообщить в полицию о противоправных действиях с сотового телефона в Российской Федерации?**

- а) 1-1-2
- б) 0-2
- в) 1-0-4
- г) 9-1-1
- д) 0-3

2

8. **Всемирный день без табака отмечается**

- а) 31 мая
- б) ежегодно
- в) раз в два года
- г) 10 октября
- д) 7 июня

24

9. **Футболисту мяч угодил в лицо, возникло носовое кровотечение. Какие действия необходимо выполнить для оказания первой помощи?**

- а) уложить пострадавшего на спину
- б) запрокинуть голову пострадавшего назад
- в) наклонить голову пострадавшего вперёд
- г) зажать крылья носа, приложить холод к переносице
- д) приложить тепло к переносице












2

10. **Какие действия ЗАПРЕЩЕНЫ при оказании первой помощи в случае отморожения пальцев рук?**
- а) растирание пальцев снегом
 - б) перемещение пострадавшего в теплое помещение
 - в) согревание кистей рук в горячей воде
 - г) приём тёплой пищи, тёплого питья
 - д) наложение теплоизолирующей повязки на повреждённые участки тела
- 4

Теоретические задания

Задание 1

Перед поворотом и остановкой велосипедист обязан подавать сигналы. Установите соответствие между изображением сигнала и его значением: «поворот налево», «поворот направо», «торможение».

		<p>поворот налево</p> <p>поворот направо</p> <p>торможение</p> 
		
		
		
		

Задание 2

Расположите предложенные фрагменты в верной последовательности, чтобы в итоге получилось определение.

- 3) 1) магмы в процессе подготовки
- 4) 2) или в момент вулканического извержения
- 2) 3) стенок магмопроводящих каналов при движении
- 1) 4) слабое колебание
- 5) 5) земной поверхности, вызываемое дрожанием

Ответ: Слабое колебание стенок магмопроводящих каналов при движении магмы в процессе подготовки, или в момент вулканического извержения земной поверхности, вызываемое дрожанием.

Запишите термин, определение, которому Вы составили.

Ответ: 4, 3, 1, 2, 5.

Задание 3

6

В природе существуют опасные ядовитые и безопасные, неядовитые для человека растения

- 1. Впишите названия растений, изображенных на фотографиях.
- 2. Определите, какие растения являются опасными, а какие безопасными для человека (белена, барбарис, снежная ягода белая, петрушка, клевер, иван-чай, сельдерей).

				
клевер	снежная ягода белая	иван чай	белена	петрушка
ядов.	ядов.	не ядов.	ядовит	не ядов.

Задание 4

Иммобилизация – это создание неподвижности части тела, конечности. Для выполнения иммобилизации фиксируют суставы.

1. Установите соответствие между количеством иммобилизуемых суставов и локализацией перелома конечности. Укажите стрелками соответствия.

Количество иммобилизуемых суставов	Локализация перелома
Два сустава	Плечо
Три сустава	Предплечье
	Голень
	Бедро



2. При какой травме выполняется иммобилизация, изображённая на рисунке?

- а) перелом костей таза
- б) перелом позвоночника
- в) перелом бедренной кости
- г) перелом костей голени

Ответ: перелом бедренной кости.

Максимальная оценка за работу – 200 баллов.

4
58.