



Школьный этап

КОД участника 802

Ф.И.О. Белова Мария

Артуровна

Класс 8 "А"

Предмет Общ

2021-2022уч.год

**ВСЕРОССИЙСКАЯ ОЛИМПИАДА ШКОЛЬНИКОВ  
ПО ОБЖ 2021–2022 уч. г. ШКОЛЬНЫЙ ЭТАП  
7–8 классы**

**Тестовые задания**

**Определите один правильный ответ.**

За правильный ответ начисляется 2 балла. 0 баллов выставляется за неправильный ответ, а также если участником отмечено более одного ответа (в том числе правильный).

1. **Пассажир –**

- а) лицо, кроме водителя, находящееся в транспортном средстве, входящее в него или выходящее из него 2
- б) только лицо, находящееся в транспортном средстве и выходящее из него
- в) только лицо, сажающееся в транспортное средство и находящееся в нём
- г) только лицо, входящее в транспортное средство и выходящее из него

2. **Какой вид костра рекомендуется использовать только для приготовления пищи?**

- а) «шалаш»
- б) «пирамида»
- в) «колодец» D
- г) «полинезийский»

3. **В том случае, если космонавтов не сразу обнаружили после возвращения на Землю, до прибытия спасателей им помогает выжить**

- а) SOS 2
- б) АМС
- в) ИСС
- г) НАЗ

4. **На знамени МЧС России вышиты слова**

- а) «Спасать, тушить, предупреждать»
- б) «Предотвращение, спасение, помощь» 2
- в) «Спасение во имя жизни – наше призвание»
- г) «Учимся побеждать, предупреждать и спасать»

5. **При выходе из зоны возможного химического заражения рекомендуется двигаться**

- а) перпендикулярно направлению ветра U
- б) параллельно направлению ветра
- в) по ветру
- г) по диагонали относительно направления ветра

6. **Единым номером вызова экстренных оперативных служб является**

- а) 1–1–2
- б) 1–0–3
- в) 1–1–1
- г) 1–0–4

2

7. **Обнаружен бесхозный предмет. Установите минимальный радиус зоны эвакуации.**

- а) 250 м
- б) 230 м
- в) 460 м
- г) 200 м

0



8. **Канцерогенные вещества, содержащиеся в табачном дыме, приводят к развитию**

- а) заболеваний сердца
- б) злокачественных новообразований
- в) заболеваний суставов
- г) сосудистой патологии

2

9. **При частичном нарушении проходимости дыхательных путей, когда человек подавился, но может разговаривать, первую помощь рекомендуется начать с**

- а) нанесения 5 ударов между лопатками
- б) предложения покашлять
- в) выполнения приёма Геймлиха
- г) предложения выпить тёплой воды

2

10. **Велосипедист упал, повредил ногу в нижней трети голени. Какое минимальное количество суставов необходимо иммобилизовать, если выявлены признаки перелома?**


- а) один
- б) два
- в) три
- г) четыре

2

**Определите два правильных ответа.**


За каждый правильный ответ начисляется 2 балла, 0 баллов выставляется за неправильный ответ, а также если участником отмечены более двух ответов (в том числе правильные).

1. При наличии какой разметки допускается переходить проезжую часть между противоположными углами перекрёстка (по диагонали)?



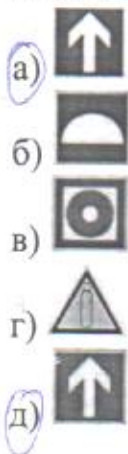
4

2. В какие деревья реже всего бьёт молния?



4

3. Выберите знаки, которые в совокупности означают «Место размещения нескольких средств противопожарной защиты находится наверху».



2

4. **Находясь на эскалаторе, для обеспечения личной безопасности НЕ рекомендуется**
- а) прислоняться к неподвижным частям
  - б) проходить с левой стороны 4
  - в) держаться за поручень эскалатора
  - г) наступать на жёлтую линию на ступенях эскалатора
  - д) стоять справа лицом по направлению его движения
5. **Прочным считается лёд с**
- а) зеленоватым оттенком
  - б) молочным оттенком 0
  - в) синеватым оттенком
  - г) серым оттенком
  - д) фиолетовым оттенком
6. **В толпе рекомендуется руки держать**
- а) перед грудью
  - б) перед лицом
  - в) выпрямленными в локтях 0
  - г) согнутыми в локтях
  - д) в карманах
7. **В Главное управление по противодействию экстремизму МВД России Вы можете подать электронное заявление о**
- а) кибербуллинге
  - б) скулшутинге 4
  - в) суициде
  - г) клевете
  - д) незаконном обороте оружия
8. **Какое влияние оказывает никотин на организм человека?**
- а) вызывает сужение сосудов
  - б) улучшает кровоснабжение внутренних органов 2
  - в) вызывает развитие злокачественных новообразований
  - г) в низких дозах возбуждает, в высоких – угнетает ЦНС
  - д) не вызывает привыкания
9. **К закрытым механическим травмам относят**
- а) ушибы
  - б) растяжения 4
  - в) отравления
  - г) ожоги
  - д) отморожения

10. При каких травмах пострадавшему придают оптимальное положение тела, изображённое на рисунке?

- а) переломе рёбер
- б) травме голени
- в) травме позвоночника
- г) травме живота
- д) травме таза



2

### Теоретические задания

#### Задание 1

Расположите предложенные фрагменты в верной последовательности, чтобы в итоге получилось определение.

- 1) удалённые от центра перекрёстка начала закруглений проезжих частей
- 2) разветвления дорог на одном уровне, ограниченное воображаемыми линиями.
- 3) место пересечения, примыкания или
- 4) соединяющими соответственно противоположные, наиболее

Ответ: 3) Место пересечения, примыкания или слияния дорог на одном уровне, ограниченное воображаемыми линиями,  
3); 2); 4); 1).

Запишите термин, определение которому Вы составили.

Ответ: перекрёсток.

8

### Задание 2

Аварийно химически опасное вещество (АХОВ) – опасное химическое вещество, применяемое в промышленности, сельском хозяйстве, при аварийном выбросе (разливе) которого может произойти загрязнение окружающей среды, поражение людей и живой природы.

1. Определите название АХОВ по его описанию: газ жёлто-зелёного цвета с резким запахом.

Ответ: Хлор

2. Определите его свойства:

- а) Легче воздуха, поэтому скапливается на верхних этажах зданий.
- б) Тяжелее воздуха, поэтому скапливается в низинных участках местности, проникает в подвальные помещения и нижние этажи зданий.
- в) Немного легче воздуха, плохо растворим в воде.

Ответ: б)

3. Определите признаки отравления:

- а) Головная боль, головокружение, нарушение координации движений, покраснение кожи, нарушения психической деятельности (эйфория, утрата самоконтроля и т. п.). Позже развиваются судороги, утрачивается сознание, и, если не принять экстренные меры, человек может погибнуть вследствие остановки сердца.
- б) Металлический привкус во рту, слабость, головокружение, беспокойство, расширение зрачков, замедление пульса, судороги.
- в) Резкая боль в груди, сухой кашель, рвота, резь в глазах и слезотечение.

Ответ: в)

### Задание 3

Средство индивидуальной защиты – средство индивидуального пользования для предотвращения или уменьшения воздействия на человека вредных и (или) опасных факторов, а также для защиты от загрязнения.

Распределите средства индивидуальной защиты по группам: средства индивидуальной защиты органов дыхания (СИЗОД); средства индивидуальной защиты кожи (СИЗК); медицинские средства индивидуальной защиты (МСИЗ).

- 1 – камера защитная детская;
- 2 – щитки защитные лицевые;
- 1 – противогаз гражданский;
- 2 – защитные очки;
- 1 – фильтрующий самоспасатель;
- 2 – перчатки;
- 3 – защитная паста гидрофобного характера;
- 2 – скафандр;
- 3 – фармакологические противоядия;
- 2 – наколенники.

Ответ:

Группы индивидуальной защиты	Средства индивидуальной защиты
СИЗОД	камера защитная детская; противогаз гражданский; фильтрующий самоспасатель;
СИЗК	щитки защитные лицевые; защитные очки; перчатки; скафандр; наколенники.
МСИЗ	защитная паста гидрофобного характера; фармакологические противоядия.



#### Задание 4

Подробный осмотр пострадавшего при оказании первой помощи выполняется в определённой последовательности.

Расставьте наименования анатомических областей тела человека в правильной последовательности выполнения их осмотра.

Наименование анатомических областей тела человека: конечности, грудь, спина, живот и таз, голова, шея.

Ответ:

№	Анатомическая область тела
1.	голова
2.	шея
3.	грудь
4.	спина
5.	живот и таз
6.	конечности

Максимальная оценка за работу – 100 баллов.

12. 80 баллов