



Школьный этап

КОД участника 810

Ф.И.О. Узденова Майсана
Арсеновна

Класс _____

Предмет Русский ОБЖ

2021-2022уч.год

ВСЕРОССИЙСКАЯ ОЛИМПИАДА ШКОЛЬНИКОВ
ПО ОБЖ 2021–2022 уч. г. ШКОЛЬНЫЙ ЭТАП
7–8 классы

Тестовые задания

Определите один правильный ответ.

За правильный ответ начисляется 2 балла. 0 баллов выставляется за неправильный ответ, а также если участником отмечено более одного ответа (в том числе правильный).

1. **Пассажир –**

- а) лицо, кроме водителя, находящееся в транспортном средстве, входящее в него или выходящее из него 2
- б) только лицо, находящееся в транспортном средстве и выходящее из него
- в) только лицо, сажающееся в транспортное средство и находящееся в нём
- г) только лицо, входящее в транспортное средство и выходящее из него

2. **Какой вид костра рекомендуется использовать только для приготовления пищи?**

- а) «шалаш»
- б) «пирамида» 0
- в) «колодец»
- г) «полинезийский»

3. **В том случае, если космонавтов не сразу обнаружили после возвращения на Землю, до прибытия спасателей им помогает выжить**


- а) SOS
- б) АМС
- в) ИСС 2
- г) НАЗ

4. **На знамени МЧС России вышиты слова**

- а) «Спасать, тушить, предупреждать»
- б) «Предотвращение, спасение, помощь» 0
- в) «Спасение во имя жизни – наше призвание»
- г) «Учимся побеждать, предупреждать и спасать»

5. **При выходе из зоны возможного химического заражения рекомендуется двигаться**


- а) перпендикулярно направлению ветра 2
- б) параллельно направлению ветра
- в) по ветру
- г) по диагонали относительно направления ветра

6. **Единым номером вызова экстренных оперативных служб является**
- а) 1–1–2
 - б) 1–0–3
 - в) 1–1–1
 - г) 1–0–4
7. **Обнаружен бесхозный предмет. Установите минимальный радиус зоны эвакуации.**
- а) 250 м
 - б) 230 м
 - в) 460 м
 - г) 200 м
- 
8. **Канцерогенные вещества, содержащиеся в табачном дыме, приводят к развитию**
- а) заболеваний сердца
 - б) злокачественных новообразований
 - в) заболеваний суставов
 - г) сосудистой патологии
9. **При частичном нарушении проходимости дыхательных путей, когда человек подавился, но может разговаривать, первую помощь рекомендуется начать с**
- а) нанесения 5 ударов между лопатками
 - б) предложения покашлять
 - в) выполнения приёма Геймлиха
 - г) предложения выпить тёплой воды
10. **Велосипедист упал, повредил ногу в нижней трети голени. Какое минимальное количество суставов необходимо иммобилизовать, если выявлены признаки перелома?**
- а) один
 - б) два
 - в) три
 - г) четыре

Определите два правильных ответа.


За каждый правильный ответ начисляется 2 балла. 0 баллов выставляется за неправильный ответ, а также если участником отмечены более двух ответов (в том числе правильные).

1. При наличии какой разметки допускается переходить проезжую часть между противоположными углами перекрёстка (по диагонали)?



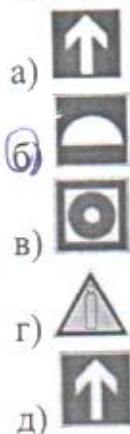
2

2. В какие деревья реже всего бьёт молния?



2

3. Выберите знаки, которые в совокупности означают «Место размещения нескольких средств противопожарной защиты находится сверху».



2

4. **Находясь на эскалаторе, для обеспечения личной безопасности НЕ рекомендуется**
а) прислоняться к неподвижным частям
б) проходить с левой стороны
в) держаться за поручень эскалатора
г) наступать на жёлтую линию на ступенях эскалатора
д) стоять справа лицом по направлению его движения 2
5. **Прочным считается лёд с**
а) зеленоватым оттенком
б) молочным оттенком
в) синеватым оттенком
г) серым оттенком
д) фиолетовым оттенком 2
6. **В толпе рекомендуется руки держать**
а) перед грудью
б) перед лицом
в) выпрямленными в локтях
г) согнутыми в локтях
д) в карманах 2
7. **В Главное управление по противодействию экстремизму МВД России Вы можете подать электронное заявление о**
а) кибербуллинге
б) скулшутинге
в) суициде
г) клевете
д) незаконном обороте оружия 0
8. **Какое влияние оказывает никотин на организм человека?**
а) вызывает сужение сосудов
б) улучшает кровоснабжение внутренних органов
в) вызывает развитие злокачественных новообразований
г) в низких дозах возбуждает, в высоких – угнетает ЦНС
д) не вызывает привыкания
9. **К закрытым механическим травмам относят**
а) ушибы
б) растяжения
в) отравления
г) ожоги
д) отморожения 11

10. При каких травмах пострадавшему придают оптимальное положение тела, изображённое на рисунке?

- а) переломе рёбер
- б) травме голени
- в) травме позвоночника
- г) травме живота
- д) травме таза

и



Теоретические задания

Задание 1

Расположите предложенные фрагменты в верной последовательности, чтобы в итоге получилось определение.

- 1) удалённые от центра перекрёстка начала закруглений проезжих частей
- 2) разветвления дорог на одном уровне, ограниченное воображаемыми линиями.
- 3) место пересечения, примыкания или
- 4) соединяющими соответственно противоположные, наиболее

Ответ: 5241

Запишите термин, определение которому Вы составили.

Ответ: Перекресток

8

Задание 2

Аварийно химически опасное вещество (АХОВ) – опасное химическое вещество, применяемое в промышленности, сельском хозяйстве, при аварийном выбросе (разливе) которого может произойти загрязнение окружающей среды, поражение людей и живой природы.

1. Определите название АХОВ по его описанию: газ жёлто-зелёного цвета с резким запахом.

Ответ: Хлор.

2. Определите его свойства:

- а) Легче воздуха, поэтому скапливается на верхних этажах зданий.
- б) Тяжелее воздуха, поэтому скапливается в низинных участках местности, проникает в подвальные помещения и нижние этажи зданий.
- в) Немного легче воздуха, плохо растворим в воде.

Ответ: б.

3. Определите признаки отравления:

- а) Головная боль, головокружение, нарушение координации движений, покраснение кожи, нарушения психической деятельности (эйфория, утрата самоконтроля и т.п.). Позже развиваются судороги, утрачивается сознание, и, если не принять экстренные меры, человек может погибнуть вследствие остановки сердца.
- б) Металлический привкус во рту, слабость, головокружение, беспокойство, расширение зрачков, замедление пульса, судороги.
- в) Резкая боль в груди, сухой кашель, рвота, резь в глазах и слезотечение.

Ответ: в.

Задание 3

Средство индивидуальной защиты – средство индивидуального пользования для предотвращения или уменьшения воздействия на человека вредных и (или) опасных факторов, а также для защиты от загрязнения.

Распределите средства индивидуальной защиты по группам: средства индивидуальной защиты органов дыхания (СИЗОД); средства индивидуальной защиты кожи (СИЗК); медицинские средства индивидуальной защиты (МСИЗ).

- камера защитная детская;
- щитки защитные лицевые;
- противогаз гражданский;
- защитные очки;
- фильтрующий самоспасатель;
- перчатки;
- защитная паста гидрофобного характера;
- скафандр;
- фармакологические противоядия;
- наколенники.

Ответ:

Группы индивидуальной защиты	Средства индивидуальной защиты
СИЗОД	1, 3, 5
СИЗК	2, 4, 8, 10
МСИЗ	7, 9

Задание 4

Подробный осмотр пострадавшего при оказании первой помощи выполняется в определённой последовательности.

Расставьте наименования анатомических областей тела человека в правильной последовательности выполнения их осмотра.

Наименование анатомических областей тела человека: конечности, грудь, спина, живот и таз, голова, шея.

Ответ:

№	Анатомическая область тела
1.	Голова и шея
2.	Шея
3.	Грудь
4.	Спина
5.	Живот и Таз
6.	Конечности.

12.

Максимальная оценка за работу – 100 баллов.

688.