



Школьный этап

КОД участника 1107

Ф.И.О. Альботова Инна
Валентиновна

Класс 11, А

Предмет Физ

2021-2022уч.год

ВСЕРОССИЙСКАЯ ОЛИМПИАДА ШКОЛЬНИКОВ
ПО ОБЖ 2021–2022 уч. г. ШКОЛЬНЫЙ ЭТАП
10–11 классы

Тестовые задания

Определите один правильный ответ.

За правильный ответ начисляется 2 балла. 0 баллов выставляется за неправильный ответ, а также если участником отмечено более одного ответа (в том числе правильный).

1. Водитель –

- а) лицо, управляющее каким-либо транспортным средством
- б) лицо, управляющее только автомобилем
- в) лицо, управляющее только автомобилем и автобусом
- г) лицо, управляющее только мотоциклом, автомобилем и автобусом

2. В каком направлении нумеруются квартальные столбы, установленные на пересечении лесных просек для указания номеров стандартных лесных кварталов?

- а) с востока на юг
- б) с юга на запад
- в) с юга на север
- г) с запада на восток

3. Определите знамя, которое является государственной реликвией России.




4. Какое минимальное расстояние друг от друга необходимо соблюдать при переходе водоёма по льду группой?

- а) 5–6 м
- б) 7–8 м
- в) 3–4 м
- г) 1–2 м

5. Обнаружена закладка из двух гранат. Установите минимальный радиус зоны эвакуации.


- а) 250 м
- б) 50 м
- в) 230 м
- г) 200 м



б

6. На изображении представлен

- а) Су-57
- б) Су-33
- в) Су-27 СК
- г) Су-35



б

7. К боевым ирритантам относят

- а) хлорпикрин
- б) дифосген
- в) хлорциан
- г) фосген

б

8. Какое воинское звание было у Ю.А. Гагарина во время первого в мире полёта в космос?

- а) старший лейтенант
- б) лейтенант
- в) майор
- г) капитан

б

9. Какое соотношение белков, жиров и углеводов соответственно является оптимальным для взрослых и детей старшего возраста?

- ~~а) 1:1:3~~
- б) 1:1:4
- в) 1:4:1
- г) 4:1:1

б

10. Обзорный осмотр пострадавшего при оказании первой помощи выполняется с целью выявления признаков

- а) отравления
- б) ожога
- в) закрытой травмы
- г) наружного кровотечения

2

Определите два правильных ответа.






За каждый правильный ответ начисляется 2 балла. 0 баллов выставляется за неправильный ответ, а также если участником отмечены более двух ответов (в том числе правильные).

1. При движении организованных пешеходных колонн по проезжей части в тёмное время суток спереди и сзади колонны с левой стороны должны находиться сопровождающие с включёнными фонарями

- а) спереди – белого цвета
- б) сзади – оранжевого цвета
- в) сзади – красного цвета
- г) сзади – жёлтого цвета
- д) спереди – зелёного цвета

2

2. Какие узлы относятся к вспомогательным?






- а) 
- б) 
- в) 
- г) 
- д) 

2

3. Бросать спасательный круг в сторону тонущего рекомендуется так, чтобы он упал

- а) справа от тонущего
- б) слева от тонущего
- в) сзади от тонущего
- г) спереди от тонущего
- д) на тонущего

0

4. **Какие классы пиротехнических изделий бытового назначения можно применять только на улице?**
- а) I
 - б) II
 - в) III
 - г) IV
 - д) V
5. **К основным принципам противодействия экстремистской деятельности относятся**
- а) гласность
 - б) приоритет мер, направленных на ликвидацию последствий экстремистской деятельности
 - в) приоритет обеспечения безопасности Российской Федерации
 - г) конфиденциальность
 - д) приоритет обеспечения безопасности гражданина Российской Федерации
6. **Определите существующие военные округа при военно-административном делении РФ в настоящее время.**
- а) Северный флот
 - б) Северо-Кавказский военный округ
 - в) Восточный военный округ
 - г) Балтийский флот
 - д) Сибирский военный округ
7. **Определите по флагам страны – участницы НАТО.**
- а) 
 - б) 
 - в) 
 - г) 
 - д) 
8. **Запас Вооружённых Сил Российской Федерации состоит из**
- а) мобилизационного людского резерва
 - б) мобилизационного технического резерва
 - в) мобилизационной складской базы
 - г) мобилизационного технического ресурса
 - д) мобилизационного людского ресурса

9. Меры профилактики инфекционных заболеваний с трансмиссивным механизмом передачи инфекции:

- а) регулярное мытьё рук
- б) использование медицинских трёхслойных одноразовых масок
- в) проведение дезинсекции
- г) проведение дезинфекции
- д) использование москитных сеток

2

10. После вакцинации у человека формируется иммунитет:

- а) пассивный
- б) активный
- в) приобретённый
- г) врождённый
- д) видовой

61

Теоретические задания

Задание 1

1. Расположите предложенные фрагменты в верной последовательности, чтобы в итоге получилось определение.

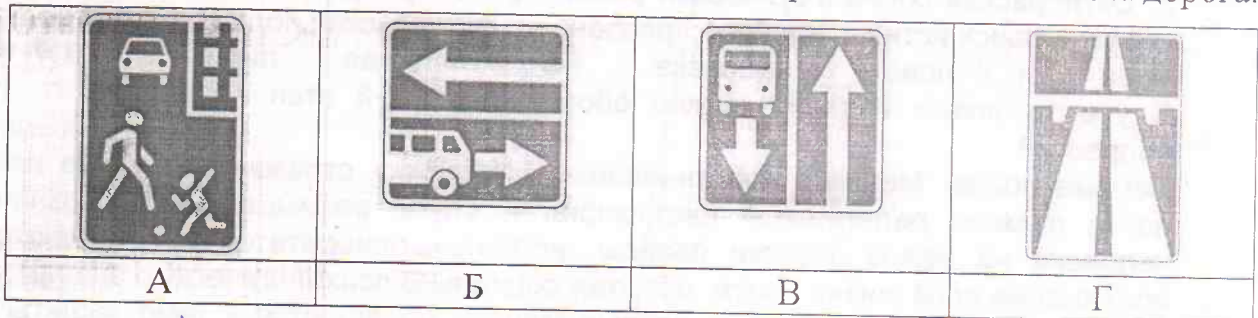
- 1) или трамвайными путями, пешеходными или велосипедными дорожками
- 2) движения проезжие части, отделённые друг от друга разделительной полосой (а при её отсутствии – дорожным ограждением),
- 3) без пересечений в одном уровне с другими дорогами, железнодорожными
- 4) дорога, обозначенная специальным
- 5) знаком и имеющая для каждого направления

Ответ: 4 5 2 3 1

Дорога, обозначенная специальным
знаком и имеющая для каждого
направления движения проезжие части,
отделённые друг от друга разделительной полосой
без пересечений в одном уровне с другими дорогами, железнодорожными
2. Запишите термин, определение которому Вы составили. трамвайный путь.

Ответ: (Трасса) Автострада

3. Выберите изображение знака, с помощью которого обозначается эта дорога.



Ответ: Б Г

10

Задание 2

Автомат Калашникова является индивидуальным оружием и предназначен для уничтожения живой силы и поражения огневых средств противника.

1. Определите, на каком изображении представлен АК-12.



Ответ: Б Б

2

2. Определите характеристики АК-12. Подчеркните верный ответ.


- Применяемый боеприпас – 5,45x39; 7,62x39; 5,56x45
- Ёмкость магазина – 30 патронов; 45 патронов; 20 патронов
- Режимы ведения огня – с отсечкой по 2, одиночный, автоматический; с отсечкой по 3, автоматический; одиночный, автоматический
- Наличие штатного глушителя – есть; нет
- Возможность установки штык-ножа – есть; нет
- Возможность оперативной замены ствола – есть; нет

10

Задание 3

В Вооружённых Силах Российской Федерации устанавливаются составы военнослужащих и воинские звания.

Укажите наименования воинских званий в соответствии со знаками различия на погонах лейтенант, старший лейтенант, майор, полковник, генерал-майор, генерал-лейтенант, генерал-полковник, генерал армии.



10

Задание 4

Для инфекционных заболеваний характерна цикличность течения.

1. Установите соответствие между наименованием периода инфекционного заболевания и его характеристикой.

Период инфекционного заболевания
Начальный (продромальный)
Угасания болезни (реконвалесценции)
Инкубационный
Основных проявлений болезни (разгара болезни)

Характеристика периода инфекционного заболевания
Период проявления общих признаков заболевания. В этот период ещё нет чётко выраженных признаков конкретного заболевания <i>Начальный</i>
Период, когда постепенно исчезают основные признаки болезни, начинается выздоровление организма, постепенно восстанавливаются нарушенные функции организма <i>Угасания болезни</i>
Период максимального проявления наиболее существенных и специфических признаков конкретного заболевания <i>Основные проявления болезни</i>
Промежуток времени от момента заражения до появления первых признаков болезни <i>Инкубационный</i>

2. Какое из перечисленных заболеваний передаётся воздушно-капельным путём?

- а) гепатит А
- б) гепатит В
- в) корь
- г) малярия

Ответ: корь

Максимальная оценка за работу – 100 баллов.

10'

60 баллов