



Школьный этап

КОД участника 603

Ф.И.О. Абдуллин Ильяс
Исмаилов.

Класс 6

Предмет технология

Баллы 10

2021-2022уч.год

1. Из каких основных частей состоит верстак?

- А) стол Б) столешница
В) заготовка Г) подверстачье

+ 0,58

2. Какие виды верстаков вы знаете?

- А) рабочий стол Б) столярный верстак
В) универсальный стол-верстак Г) производственный

+ 15.


3. Чтобы защитить столешницу от повреждений, нужно:

- А) применять клеенку Б) применять подкладную доску
В) применять резиновый коврик Г) ничего из вышеперечисленного

+ 1.

4. Соотнесите название инструментов и рисунки:

А



Б



Г



1. Фуганок

2. Шерхебель

3. Фальцгобель

4. Рубанок

- 05.


- А) А - 1, Б - 2, В - 3, Г - 4 Б) А - 2, Б - 4, В - 1, Г - 3
В) А - 1, Б - 2, В - 4, Г - 3 Г) А - 2, Б - 1, В - 3, Г - 4

5. Назовите слои коры дерева:

- А) наружный пробковый Б) наружный лубяной
В) торцевой Г) внутренний лубяной

+ 0,5

6. Как называется рисунок на поверхности древесины?



+ 15.

- А) сучки Б) текстура

В) пороки Г) цвет

7. Как называют дополнительный слой поверхности заготовки, подлежащий удалению?

- А) деталь Б) шаблон
В) припуск Г) выступ

+ 15.

8. Документ, устанавливающий единые правила оформления чертежей:

- А) шаблон Б) стандарт
В) масштаб Г) чертёж

+ 15.

9. Как называется процесс нанесения на заготовку точек и контурных линий?

- А) масштаб Б) технический рисунок
В) разметка Г) чертёж

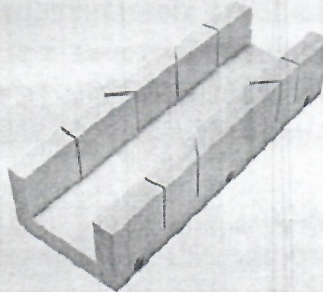
- 05.

10. Определите процесс резания древесины на части с образованием пропила:

- А) пропил Б) пиление
В) насечка Г) зачистка

+ 15.

11. Как называется приспособление, показанное на рисунке, применяемое для точного пиления заготовки поперёк волокон?



+ 25.

- А) столярную ножовку Б) столярный верстак
В) стусло Г) зажим

12. Процесс срезания с заготовки слоя древесины в виде тонкой стружки:

- А) строгание Б) пиление
В) зачистка Г) пропил

+ 15.

13. Какой инструмент применяют для чернового строгания?

- А) рубанок Б) фуганок
В) шерхебель Г) напильник

- 05.