



Школьный этап

КОД участника 602

Ф.И.О. Молчанов Саша

Марафончик

Класс 6

Предмет Биология

Баллы 5

2021-2022уч.год

1. Из каких основных частей состоит верстак?

- А) стол Б) столешница  
 В) заготовка Г) подверстачье

- 05.

2. Какие виды верстаков вы знаете?

- А) рабочий стол Б) столярный верстак  
 В) универсальный стол-верстак Г) производственный

- 05.

3. Чтобы защитить столешницу от повреждений, нужно:

- А) применять клеенку Б) применять подкладную доску  
 В) применять резиновый коврик Г) ничего из вышеперечисленного


- 05.

4. Соотнесите название инструментов и рисунки:

А



Б



В

Г



1. Фуганок

2. Шерхебель

3. Фальцгобель

4. Рубанок

А) А - 1, Б - 2, В - 3, Г - 4 Б) А - 2, Б - 4, В - 1, Г - 3

В) А - 1, Б - 2, В - 4, Г - 3 Г) А - 2, Б - 1, В - 3, Г - 4


- 05.

5. Назовите слои коры дерева:

- А) наружный пробковый Б) наружный лубяной  
 В) торцевой Г) внутренний лубяной

+ 15.

6. Как называется рисунок на поверхности древесины?



+ 15.

- А) сучки Б) текстура



В) пороки Г) цвет

7. Как называют дополнительный слой поверхности заготовки, подлежащий удалению?

А) деталь Б) шаблон

В) припуск Г) выступ

+ 15.

8. Документ, устанавливающий единые правила оформления чертежей:

А) шаблон Б) стандарт

В) масштаб Г) чертёж

- 05.

9. Как называется процесс нанесения на заготовку точек и контурных линий?

А) масштаб Б) технический рисунок

В) разметка Г) чертёж

- 05.

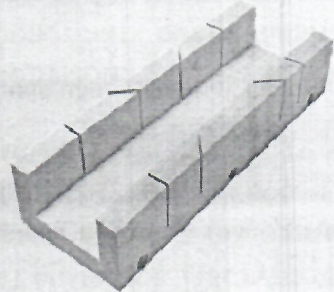
10. Определите процесс резания древесины на части с образованием пропила:

А) пропил Б) пиление

В) насечка Г) зачистка

- 05.

11. Как называется приспособление, показанное на рисунке, применяемое для точного пиления заготовки поперёк волокон?



+ 15.

А) столярную ножовку Б) столярный верстак

В) стусло Г) зажим

12. Процесс срезания с заготовки слоя древесины в виде тонкой стружки:

А) строгание Б) пиление

В) зачистка Г) пропил

+ 15.

13. Какой инструмент применяют для чернового строгания?

А) рубанок Б) фуганок

В) шерхебель Г) напильник

- 05.