



Школьный этап

КОД участника 09

Ф.И.О. Балицкий Алексей Александрович

Класс 3 "Б"

Предмет История

Баллы 8

2021-2022уч.год

КОД УЧАСТНИКА _____
ВСЕРОССИЙСКАЯ ОЛИМПИАДА ШКОЛЬНИКОВ ПО ИСТОРИИ
2021–2022 уч.г.
ШКОЛЬНЫЙ ЭТАП 8 класс

Уважаемый участник !

При выполнении заданий Вам предстоит выполнить определённую работу, которую лучше организовать следующим образом:

- внимательно прочитайте задание;
- если Вы отвечаете на теоретический вопрос или решаете ситуационную задачу, обдумайте и сформулируйте конкретный ответ, его содержание впишите в отведённое поле, запись ведите чётко и разборчиво;
- при ответе на тесты определите верный ответ, обведите кружком цифру (-ры), соответствующую (-ие) выбранному Вами ответу.

За каждый правильный ответ Вы можете получить определённое количество баллов, но не выше указанной максимальной оценки.

Сумма набранных баллов за все решённые вопросы итог Вашей работы.

Максимальное количество баллов – 70. Время на выполнение заданий – 90 минут.

Желаем успеха!

Задание 1. Разминка. 3 балла

1. 1. К какому году относятся события, описанные в историческом источнике?

«Когда этот воин и воевода, князь Михаил Васильевич Скопин-Шуйский, послушался царя и приехал в Москву, родился у боярина Ивана Михайловича Воротынского сын Алексей. И не прошло двух месяцев после его рождения, как стал князь Михаил крестным кумом, а кумой стала жена князя Дмитрия Ивановича Шуйского, княгиня Марья, дочь Малюты Скуратова. И по совету злых изменников замыслила она злой умысел... И после пира веселого княгиня Марья подносила чару питья куму крестному и поздравляла с крестником. А в той чаре – питье приготовлено лютое, питье смертное».

- 1) 1591 г. 2) 1610 г. 3) 1646 г. 4) 1730 г.

1. 2. Как называется документ, отрывок из которого представлен ниже?

«Ст. 1. Люди рождаются и остаются свободными и равными в правах. Общественные различия могут основываться лишь на общей пользе.

Ст. 2. Цель всякого политического союза – обеспечение естественных и неотъемлемых прав человека. Таковые – свобода, собственность, безопасность и сопротивление угнетению».

- 1) Табель о рангах
- 2) Хабеас корпус акт
- 3) Декларация прав человека и гражданина
- 4) Соборное уложение

1. 3. Прочитайте отрывок из описания историком одного из городов Древней Руси и укажите данный город:

«Сей северорусский город имел развитую торговлю с Ганзой, в нём имелись специально построенные гостиные дворы для немецких и скандинавских купцов... Не раз город подвергался угрозе захвата, однако, даже полчища Батыея не решились осадить его...»

- 1) Вятка 2) Торжок 3) Новгород 4) Ярославль

ответы

1	2	3

Задание 2. В заданиях 1 – 3 выберите несколько верных ответов из предложенных. Ответы внесите в таблицу. 6 баллов

2.1. Какие из представленных ниже событий, явлений, процессов произошли в XVII в.?

- 1) Аугсбургский религиозный мир
- 2) Деятельность Мартина Лютера
- 3) Церковная реформа Никона
- 4) Отмена Нантского эдикта о веротерпимости

- 5) Религиозные войны в Германии
- 6) Раскол православной и католической церквей

2. 2. Кто из исторических деятелей был участником войны, которая привела к созданию Республики Соединенных провинций?

- 1) Жильбер де Лафайет
- 2) Вильгельм Оранский
- 3) Жорж Дантон
- 4) Гильом Каль
- 5) Фернандо Альба
- 6) Джеймс Уатт

2. 3. Какие из представленных ниже культур активно выращивались крестьянством на Руси в X–XVII вв.?

1) Рожь	2) Просо	3) Репа	4) Помидоры	5) Картофель	6) Ячмень
1		2		3	

Задание 3. По какому принципу образованы ряды? Дайте максимально точный ответ. 4 балла

- 1. Марко Руффо, Пьетро Антони Солари, Аристотель Фиораванти, Алевиз Новый.
- 2. 1606 г., 1648 г., 1662 г., 1682 г.

Ответ: 1. _____
 2. _____

Задание №4. Какое из перечисленных понятий (имён, дат, событий) является лишним в данном ряду? Лишнее слово (словосочетание) зачеркните.

Укажите, по какому принципу образован каждый ряд, то есть кратко поясните, что объединяет понятия (имена, даты, события). 12 баллов

А) отмена кормлений, присоединение Казани, создание стрелецкого войска, введение опричнины, присоединение Пскова, принятие Судебника;

Иван IV (Грозный)

Б) Васко да Гама, Марко Поло, Америго Веспуччи, Галилео Галилей, Христофор Колумб, Фернан Магеллан

Открытие

В) хазары, печенеги, весь, половцы, франки, чудь, волжские булгары

Кочевники

Задание 5. 5 баллов

Установите соответствия. Запишите в таблицу выбранные цифры под соответствующими буквами.

Храм	Город/село
А) Церковь Покрова на Нерли	1) Боголюбково
Б) Дмитриевский собор	2) Санкт-Петербург
В) Десятинная церковь	3) Киев
Г) Собор Покрова Пресвятой Богородицы на Рву	4) Москва
Д) Храм Спаса на Крови	5) Владимир
	6) Псков

Задание 6. Перед Вами фрагмент исторического источника. Прочитайте его и выполните предложенные ниже задания. Всего за задание 17 баллов.

«В это же время поднялся на православную христианскую веру нечестивый литовский король (1) и воздвиг великую ярость и злобу. Пришел он в пределы Московского государства под град Смоленск и многие города и села разорил, церкви и монастыри разрушил. Живущие же во граде Смоленске благочестивые люди решились лучше в мученических страданиях умереть,

нежели в лютеранство уклониться, и многие от голода погибли и насильственную смерть приняли. (...)

А тот последователь антихриста, что назвался царем Димитрием, по лукавому совету треклятого воинства литовского начал многие местности всеядным огнем истреблять и насилие великое творить царствующему граду. Люди же... не поняли враждебного лукавства королевского, захотели принять королевича (2) царем в Московское государство. И простоты ради своей и из-за несовершенства ума богом избранного царя (3) свергнули с престола, и от царства отлучили, и в иноческий чин насильно облекли, и к королю под Смоленск отослали, и гетмана польского и литовского с войском его впустили в царствующий град Москву».

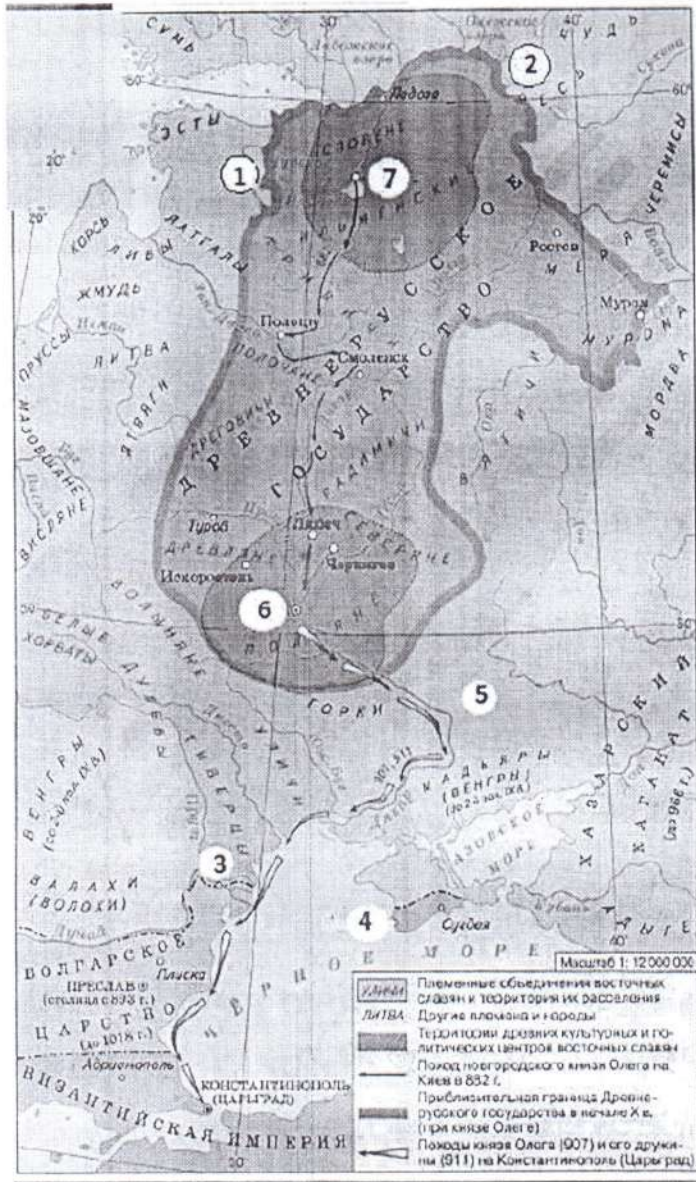
Вопросы к тексту . Ответ:

6.1. Напишите, в каком году началась осада Смоленска.	
6.2. Напишите название населённого пункта, в котором находилась ставка «царя Димитрия».	
6.3. Напишите, в каком году свергли «богом избранного царя».	
6.4. Назовите имена обозначенных в тексте порядковыми номерами участников событий.	
6.5. Почему автор текста называет польского короля «нечестивым»?	
6.6. Что такое «лютеранство», о котором пишет автор текста, и уместно ли он употребляет этот термин?	
6.7. Почему автор называет «царя Димитрия» последователем антихриста?	
6.8. На основании текста укажите три причины того, что «люди захотели принять польского королевича царём и свергли богом избранного царя».	

Задание 7. Историческая карта. 12 баллов

1. Согласно Начальной русской летописи в 862 г. н.э. в городе, обозначенном цифрой 1, стал править варяжский князь _____, а цифрой 2 – варяжский князь _____.
2. В город, обозначенный цифрой 3, хотел перенести столицу Древнерусского государства князь _____.
3. В городе, обозначенном на карте цифрой 4, принял крещение древнерусский князь _____.
4. На территории, обозначенной цифрой 5, с конца IX века располагалось кочевое племя, в честь победы над которым был воздвигнут _____ в городе, обозначенном цифрой _____.

Внимательно рассмотрите схему и заполните пропуски в предложениях.



Задание. 8. Работа с иллюстрациями. Рассмотрите изображение и выполните задание. Всего 10 баллов

8.1. Какие суждения о памятнике архитектуры, изображенном на фотографии, являются верными? Выберите два суждения из пяти предложенных. Запишите в таблицу цифры, под которыми они указаны.





- 1) Церковь находится в г. Владимире.
- 2) Храм построен в стиле «нарышкинское барокко».
- 3) Церковь была построена в честь рождения наследника Василия III.
- 4) Церковь построена в шатровом стиле.
- 5) Церковь была разрушена во время бомбардировки в годы Великой Отечественной войны.

+

4	3
---	---

4 балла

8.2. Какие из зданий, представленных ниже, были построены в годы царствования правителя, в честь рождения которого была сооружена изображённая выше церковь?



РЕШУЕГЭ.РФ

В ответе запишите две цифры, под которыми они указаны. 4 балла

3	2
---	---

8.3. Укажите название памятника, местонахождение и век его создания.

3 балла

Ответ: Век 18.