



Школьный этап

КОД участника

11

Ф.И.О.

Эмелин Руслан Дмитриевич

Класс

5.А

Предмет

МХК

Баллы

2021-2022уч.год

ВСЕРОССИЙСКАЯ ОЛИМПИАДА ШКОЛЬНИКОВ
ПО ИСКУССТВУ (МИРОВОЙ ХУДОЖЕСТВЕННОЙ КУЛЬТУРЕ)
Школьный этап, 2021-22 уч.г.

5-6 класс

За 5 заданий максимально – 133 балла

Шифр	
5-6	

1 задание

Даны ряды слов.

- Найдите лишний элемент в каждой строке и подчеркните его.
- Поясните свое решение:
 - почему этот элемент лишний,
 - что объединяет остальные.





Элементы	Объяснение
Виолончель, труба, свирель, арфа	<i>арфа это струнный инструмент</i>
Н.А. Римский-Корсаков, Ф. Шуберт, Н. Носов, М.П. Мусоргский, В.А. Моцарт	<i>Потому что Носов писатель +</i>
«Спящая красавица», «Золушка», «Щелкунчик», «Лебединое озеро»	<i>В «Лебедином озере» говорится не о принцессе</i>
День Победы, Международный женский день, День Защитника Отечества, Новый год, Рождество	<i>Рождество это не Российский праздник</i>

Максимальная оценка – 24 балла

2 задание:

Даны иллюстрации к сказкам.

- Укажите названия произведений и их авторов, язык, на котором создано произведение.
- Если какая-то из сказок стала основой для мультипликационного, художественного произведения, отметьте это в графе «Примечание», укажите жанр.

<p>1.</p> 	<p>2.</p> 
<p>3.</p> 	<p>4.</p> 

№	Автор, название	Язык оригинала	Примечание
1			
2			
3			
4			

Максимальная оценка – 38 баллов

3 задание

Дан фрагмент живописного произведения, узнайте произведение.



1. Напишите название и автора картины.
2. Опишите, что изображено на картине, на данном фрагменте, что находится справа и слева от него, какие Вам помнятся детали.
3. Напишите 5-6 слов или словосочетаний, рассказывающих о картине, передающих ее настроение.

Максимальная оценка – 24 балла

Ответ:




На картине изображены маленький медвежонок

4 задание

Показаны произведения различных народных промыслов.


1. Напиши названия этих промыслов.
2. Опиши эти виды декоративно-прикладного искусства: где появился, где находится центр этого промысла, по каким приметам его можно узнать, какой материал используется.

Максимальная оценка – 28 баллов



1.

2.



3.



4.



- Ответ:
1. Это сервиз сделанный из стекла
 2. Это ложки их делали в деревне на Руси из дерева
 3. Это очень красивая фигурка сделанная из дерева
 4. Это красивая фигурка сделанная из керамики
 5. Это панно сделанное из ткани

Дан ряд имен и терминов, которые относятся к разным видам искусства.

1. Распределите их по группам, вписывая номера в соответствующую графу.
2. Напишите, что означают указанные отдельно в таблице термины.

Максимальная оценка – 19 баллов

1 – Мойдодыр. 2 – И.И. Шишкин. 3 – Ф. Шопен. 4 – Мелодия. 5 – Палитра. 6 – Пепти Длинныйчулок.
 7 – Л. ван Бетховен. 8 – Пастель. 9 – Мольберт. 10 – С. Михалков. 11 – Симфония. 12 – Рассказ. 13 – Тамтам. 14 – Колорит. 15 – Эпитет.

Вид искусства	Номера		
Музыка	2	4	11
Живопись	3	7	9
Литература	1	6	10 12 15
Колорит	8	14	
Акомпанемент	5	13	

115