



Школьный этап

КОД участника 7

Ф.И.О. Кимичева Айна

Тасировна

Класс VI "B"

Предмет МХК

Баллы 31

2021-2022уч.год

ВСЕРОССИЙСКАЯ ОЛИМПИАДА ШКОЛЬНИКОВ  
ПО ИСКУССТВУ (МИРОВОЙ ХУДОЖЕСТВЕННОЙ КУЛЬТУРЕ)  
Школьный этап, 2021-22 уч.г.

5-6 класс


**За 5 заданий максимально – 133 балла**

Шифр	
5-6	

**1 задание**

*Даны ряды слов.*

- Найдите лишний элемент в каждой строке и подчеркните его.
- Поясните свое решение:
  - почему этот элемент лишний,
  - что объединяет остальные.





Элементы	Объяснение
Виолончель, <u>труба</u> , свирель, арфа	<p><i>Труба – дуговой инструмент, а все остальные – клавишные. Я выбрала Косова потому что он писатель.</i></p>
Н.А. Римский-Корсаков, Ф. Шуберт, <u>Н. Носов</u> , М.П. Мусоргский, В.А. Моцарт	
«Спящая красавица», «Золушка», «Щелкунчик», «Лебединое озеро»	
День Победы, Международный женский день, День Защитника Отчества, Новый год, <u>Рождество</u>	

Максимальная оценка – 24 балла

**2 задание:**

*Даны иллюстрации к сказкам.*

- Укажите названия произведений и их авторов, язык, на котором создано произведение.
- Если какая-то из сказок стала основой для мультипликационного, художественного произведения, отметьте это в графе «Примечание», укажите жанр.

1.		2.	
3.		4.	

№	Автор, название	Язык оригинала	Примечание
1	Доктор Айболит		
2	Винни-Пух	Английский	
3	Алиса в стране чудес	Английский	
4	Курлякка	Русский	

Максимальная оценка – 38 баллов

165

### 3 задание

Дан фрагмент живописного произведения, узнайте произведение.



1. Напишите название и автора картины.
2. Опишите, что изображено на картине, на данном фрагменте, что находится справа и слева от него, какие Вам помнятся детали.
3. Напишите 5-6 слов или словосочетаний, рассказывающих о картине, передающих ее настроение.

Максимальная оценка – 24 балла

Ответ:

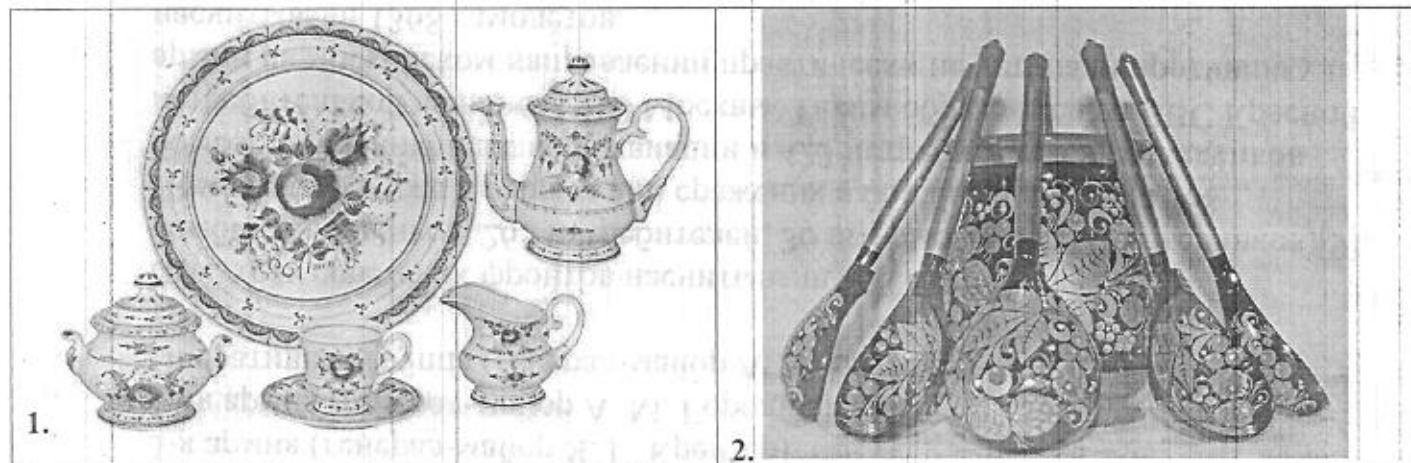
05

### 4 задание

Показаны произведения различных народных промыслов.

1. Напиши названия этих промыслов.
2. Опиши эти виды декоративно-прикладного искусства: где появился, где находится центр этого промысла, по каким приметам его можно узнать, какой материал используется.

Максимальная оценка – 28 баллов





Ответ:

08

5 задание.

*Дан ряд имен и терминов, которые относятся к разным видам искусства.*

1. Распределите их по группам, вписывая номера в соответствующую графу.
2. Напишите, что означают указанные отдельно в таблице термины.

Максимальная оценка – 19 баллов

1 – Мойдодыр. 2 – И.И. Шишкин. 3 – Ф. Шопен. 4 – Мелодия. 5 – Палитра. 6 – Пепти Длинныйчулок.  
7 – Л. ван Бетховен. 8 – Пастель. 9. – Мольберт. 10 – С. Михалков. 11 – Симфония. 12 – Рассказ. 13 – Тамтам. 14 – Колорит. 15 – Эпитет.

Вид искусства	Номера
Музыка	3, 4, 7, 8, 11
Живопись	5, 9
Литература	1, 6, 10, 12, 13
Колорит	14
Акомпанемент	11

110